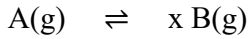




7. A(g) සහ B(g) අතර සමතුලිතතා ඇති වේ.



ආරම්භයේදී, රේඛනය කරන ලද භාජනයක් තුළ A(g) මවුල 3ක් තැබූ විට, සමතුලිතතාවයේදී A හා B සම මවුල මිශ්‍රණයක් සෑදේ. X හි අගය වනුයේ

- (1) 1                      (2) 2                      (3) 3                      (4) 4                      (5) 5

8. CHCl<sub>3</sub> සහ ජලය අතර A සංයෝගයේ විභාග සංගුණකය 9 වේ. A, CHCl<sub>3</sub> හි වඩා ද්‍රාව්‍ය වේ. ආරම්භයේදී A හි ජලීය ද්‍රාවණයක 100cm<sup>3</sup> ක් තුළ A 2.00g අඩංගු වේ. A හි මෙම ද්‍රාවණය CHCl<sub>3</sub> 100cm<sup>3</sup> කොටස් දෙකකින් නිස්සාරණය කළ විට CHCl<sub>3</sub> තුළට නිස්සාරණය වන A හි මුළු ස්කන්ධය වනුයේ,

- (1) 1.80g                      (2) 0.198g                      (3) 1.89g                      (4) 1.09g                      (5) 1.98g

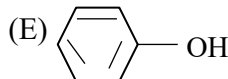
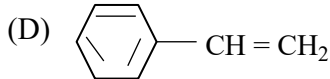
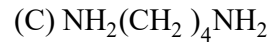
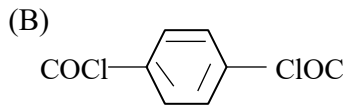
9. කාමර උෂ්ණත්වයේදී ද්‍රව වශයෙන් පවතින මූලද්‍රව්‍ය දෙක වනුයේ,

- (1) Li සහ Be                      (2) Br සහ Be                      (3) Hg සහ Br                      (4) Hg සහ Xe                      (5) Se සහ Br

10. I<sup>-</sup> අයන මවුල එකක් ඔක්සිකරණය කිරීම සඳහා වැඩිම මවුල සංඛ්‍යාවක් අවශ්‍ය වන්නේ පහත සඳහන් කුමකින්ද?

- (1) Cl<sub>2</sub>                      (2) K<sub>2</sub>CrO<sub>4</sub>                      (3) K<sub>2</sub>Cr<sub>2</sub>O<sub>7</sub>                      (4) FeCl<sub>3</sub>                      (5) KMnO<sub>4</sub>

11. පහත දැක්වෙන සංයෝග සලකන්න.



තාපස්ථාන බහුඅවයවයක් සාදන්නේ පහත සඳහන් කවර යුගල ද?

- (1) B සහ E                      (2) B සහ C                      (3) A සහ C                      (4) A සහ E                      (5) B සහ D

12. ඇනිලින් 1.86 g සමග ප්‍රතික්‍රියා කිරීමට අවශ්‍ය වන 0.2mol dm<sup>-3</sup> HCl පරිමාව වනුයේ,

(H = 1.0                      C = 12.0                      N = 14.0)

- (1) 150cm<sup>3</sup>                      (2) 10cm<sup>3</sup>                      (3) 75cm<sup>3</sup>                      (4) 200cm<sup>3</sup>                      (5) 100cm<sup>3</sup>

13. ජලයේදී ද්විධාකරණයට භාජනය වන්නේ පහත සඳහන් ඒවායින් කුමක් ද?

- (1) PCl<sub>3</sub>                      (2) NO<sub>2</sub>                      (3) SO<sub>3</sub>                      (4) SO<sub>2</sub>                      (5) NCl<sub>3</sub>

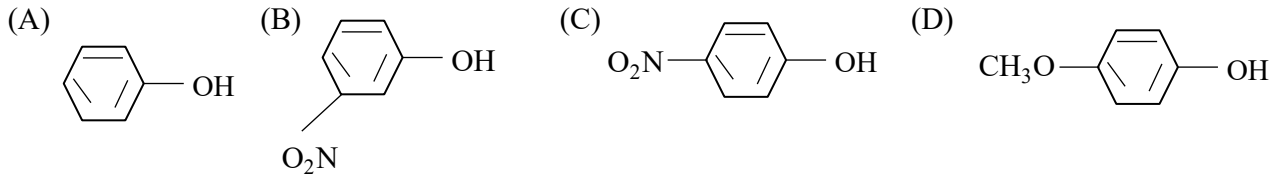
14. H<sub>2</sub>SO<sub>4</sub>, Na<sub>2</sub>CO<sub>3</sub> සහ HNO<sub>3</sub> නිපදවීමේ කාර්මික ක්‍රියාවලි සලකන්න. X වායුව මේවායින් එක් ක්‍රියාවලියකදී ආරම්භක ද්‍රව්‍යක් ලෙස භාවිත කරන නමුත් එය මොන යම් හෝ ආකාරයකින් අවසන් ඵලයෙහි ඇතුළත් නොවේ. A වායුව වනුයේ,

- (1) NH<sub>3</sub>                      (2) SO<sub>2</sub>                      (3) SO<sub>3</sub>                      (4) NO<sub>2</sub>                      (5) CO<sub>2</sub>

15. ඕසෝන් (O<sub>3</sub>) වායුව පිළිබඳ ව සත්‍ය නොවන්නේ පහත සඳහන් ප්‍රකාශ වලින් කුමක් ද?

- (1) එය පාරජම්බුල කිරණ අවශෝෂණය කරයි.  
 (2) නයිට්‍රජන් ඔක්සයිඩ මගින් ඕසෝන් ස්ථරයට හානි සිදු විය හැක.  
 (3) ඕසෝන්, විෂබීජ නාශකයන් ලෙස භාවිත කෙරේ.  
 (4) ඕසෝන්, I<sup>-</sup> අයන I<sub>2</sub> වලට ඔක්සිකරණය කරයි.  
 (5) O<sub>3</sub> හි ද්විධ්‍රැව ඝූර්ණය ශුන්‍ය වේ.

16.



A, B, C සහ D මගින් දැක්වෙන සංයෝග වල අම්ල ප්‍රභවතාව වැඩි වීමේ නිවැරදි අනුපිළිවෙළ වන්නේ,  
 (1)  $D < A < B < C$  (2)  $D < B < A < C$  (3)  $A < D < B < C$   
 (4)  $D < A < C < B$  (5)  $A < B < C < D$

17. X ලවණය, අවර්ණ ද්‍රාවණයක් සාදමින් තනුක HCl හි ද්‍රාවණය වේ.

මෙම ද්‍රාවණය,

- (i) ජලයෙන් තනුක කළ විට සුදු අවක්ෂේපයක් සෑදෙයි.
- (ii)  $H_2S$  යැවූ විට කළු අවක්ෂේපයක් ලබා දෙයි.

- (1)  $Cu^{2+}$  (2)  $Bi^{3+}$  (3)  $Hg^{2+}$  (4)  $Sb^{3+}$  (5)  $As^{3+}$

18.  $H_2(g)$  ආශ්‍රයේදී  $TiO_2$  රත් කළ විට ටයිටේනියම් වල වෙනත් ඔක්සයිඩයක් සෑදේ.  $TiO_2$  1.600g වලින් මෙම ඔක්සයිඩයේ 1.440 g සෑදෙන්නේ නම්, එම ඔක්සයිඩයේ සූත්‍රය වනුයේ, (O=16.0, Ti=48.0)

- (1)  $TiO$  (2)  $Ti_2O_3$  (3)  $Ti_2O$  (4)  $Ti_3O_4$  (5)  $Ti_2O_2$

19. A = බොන්සොයික් අම්ලය B = එතනොයික් අම්ලය C = ඇසිටෝන් D = එතනෝල්

A, B, C සහ D සංයෝග වල තාපාංක වැඩි වීමේ නිවැරදි අනුපිළිවෙළ දැක්වෙන්නේ පහත සඳහන් කුමකින්ද?

- (1)  $D < C < A < B$  (2)  $D < C < B < A$  (3)  $C < D < A < B$  (4)  $C < D < B < A$  (5)  $B < C < D < A$

20.  $S^{2-}, Cl^-, K^+$  සහ  $Ca^{2+}$  යන අයන වල අරය අඩුවීමේ නිවැරදි අනුපිළිවෙළ වන්නේ,

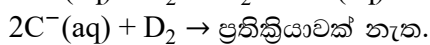
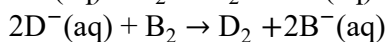

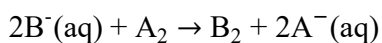
- (1)  $S^{2-} > Cl^- > K^+ > Ca^{2+}$  (2)  $Cl^- > S^{2-} > K^+ > Ca^{2+}$   
 (3)  $S^{2-} > Cl^- > Ca^{2+} > K^+$  (4)  $Ca^{2+} > K^+ > S^{2-} > Cl^-$   
 (5)  $K^+ > Ca^{2+} > Cl^- > S^{2-}$

21. M ලෝහයක් එහි සල්ෆේටය,  $M_2(SO_4)_3$  බවට පරිවර්තනය කරන ලදී. එම සල්ෆේටයේ ද්‍රාවණයක්  $Pb(NO_3)_2$  සමඟ පිරියම් කිරීමෙන්  $PbSO_4$  ලැබුණි. M හි 1.04 g වලින්  $PbSO_4$  9.90 g (වියළි ස්කන්ධයක්) ක් ලැබුණේ නම් M ලෝහය වනුයේ,

(Al = 27.0, Cr = 52.0, Fe = 55.8, Co = 58.9, Ca = 69.7,  $PbSO_4$  = 303.3)

- (1) Al (2) Cr (3) Fe (4) Co (5) Ca

22. A, B, C සහ D අලෝහමය මූලද්‍රව්‍ය වේ.



මෙම මූලද්‍රව්‍ය වල ඔක්සිකරණ හැකියාවෙහි වැඩි වීමේ නිවැරදි අනුපිළිවෙළ වනුයේ,

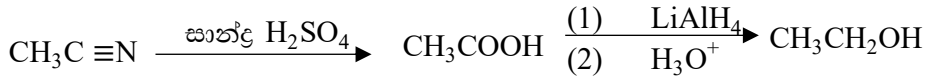
- (1)  $A < B < C < D$  (2)  $B < A < C < D$  (3)  $D < C < B < A$  (4)  $A < C < D < B$  (5)  $A < B < D < C$

23. පහත දැක්වෙන කුමන ලක්ෂණ බියුටීන්ඩයොයික් (butenedioic) අම්ලයේ ව්‍යුහය හා එකඟ වේද?

- (1) එය සමායචිකතාව පෙන්වයි.
- (2) එය  $\text{NaHCO}_3$  ද්‍රාවණයකින්  $\text{CO}_2$  මුක්ත කරයි.
- (3) එය  $\text{Br}_2$  දියර අවර්ණ කරයි.
- (4) එය - බියුටේන් -1 , -4 ඩයොල් (butane -1 ,4 diol ) සාදමින්  $\text{LiAlH}_4$  සමඟ ප්‍රතික්‍රියා කරයි.

- (1) (A) සහ (D)                      (2) (C) සහ (D)                      (3) (A) , (C) සහ (D)
- (4) (A), (B) සහ (D)              (5) (A), (B) සහ (C)

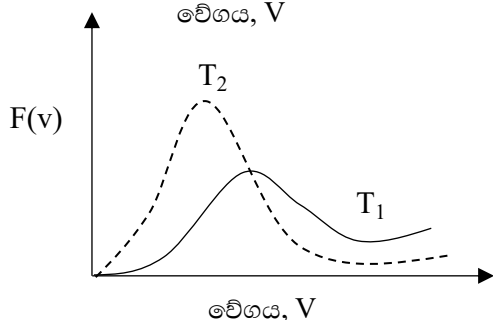
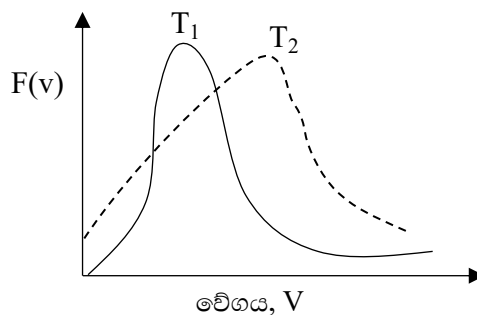
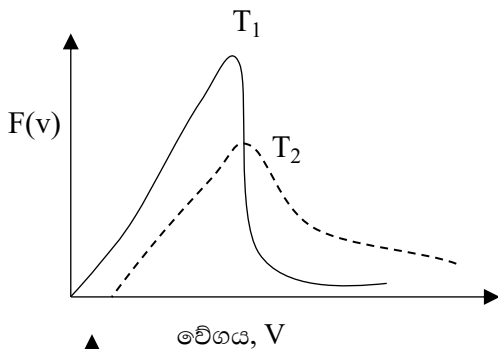
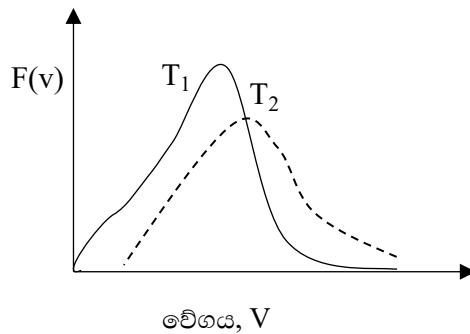
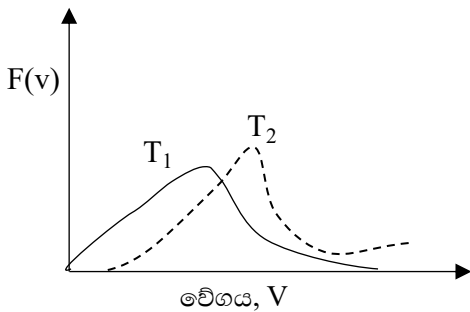
24. පහත දැක්වෙන ප්‍රතික්‍රියා පටිපාටිය සලකන්න.



(A) සහ (B) ප්‍රතික්‍රියා පියවර පිළිවෙළින්,

- (1) ඔක්සිකරනය හා ඔක්සිහරණය වේ.
- (2) ඔක්සිකරණය සහ ඔක්සිකරණය වේ.
- (3) ඔක්සිකරණය සහ ජල විච්ඡේදනය වේ.
- (4) ජල විච්ඡේදනය සහ ඔක්සිහරණය වේ.
- (5) ඔක්සිහරණය සහ ඔක්සිහරණය වේ.

25.  $T_1$  සහ  $T_2$  යන උෂ්ණත්ව දෙකක් ( $T_2 > T_1$ ) සඳහා වායුවක අණුවල වේග ව්‍යාප්ති පහත දක්වා ඇත.  $T_1$  සහ  $T_2$  උෂ්ණත්ව දෙකේ දී අනුවල වේගවල නිඛිල වඩාත් ම ඉඩ ඇති විචලනය පෙන්වන්නේ පහත දැක්වෙන 1- 5 ප්‍රස්තාර ඇතුරෙන් කුමක්ද?

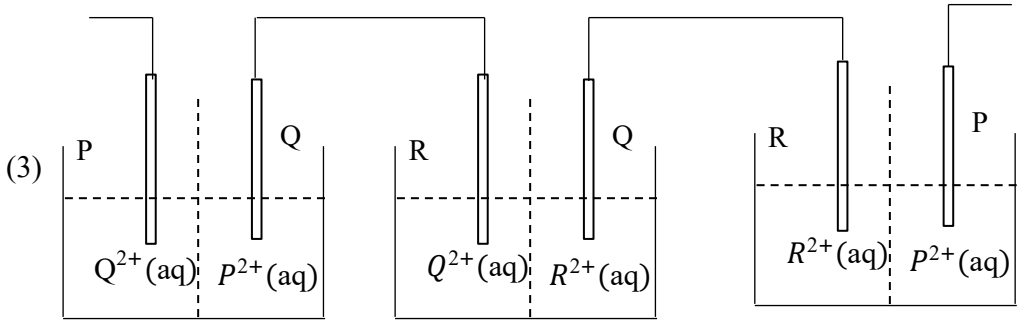
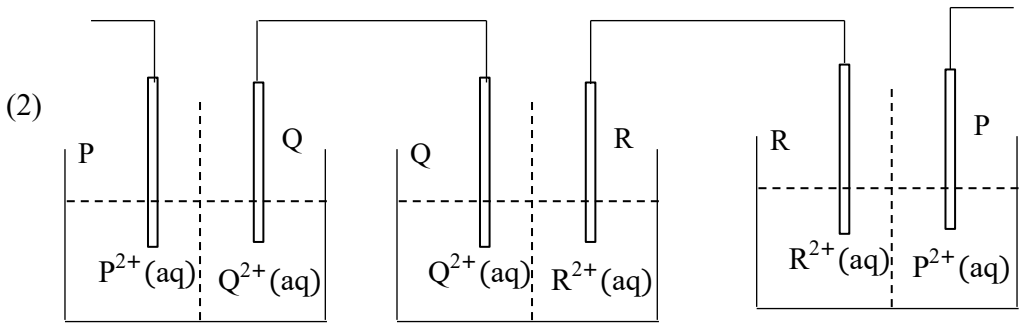
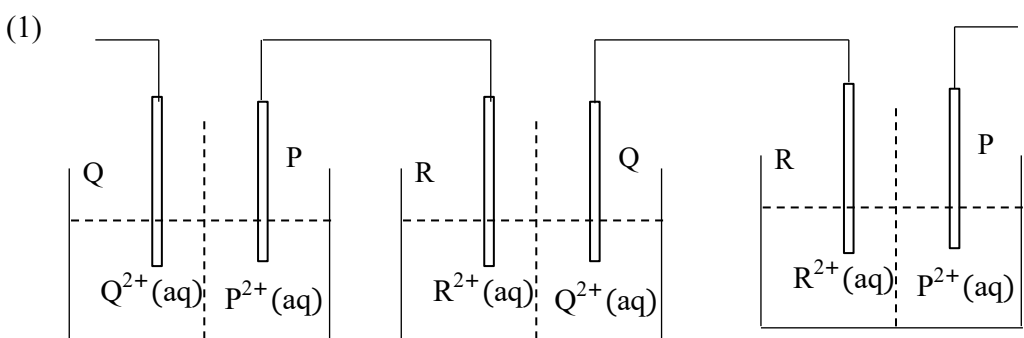


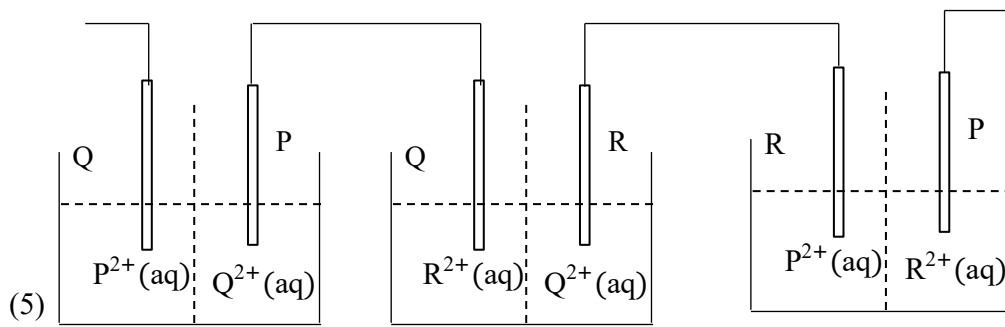
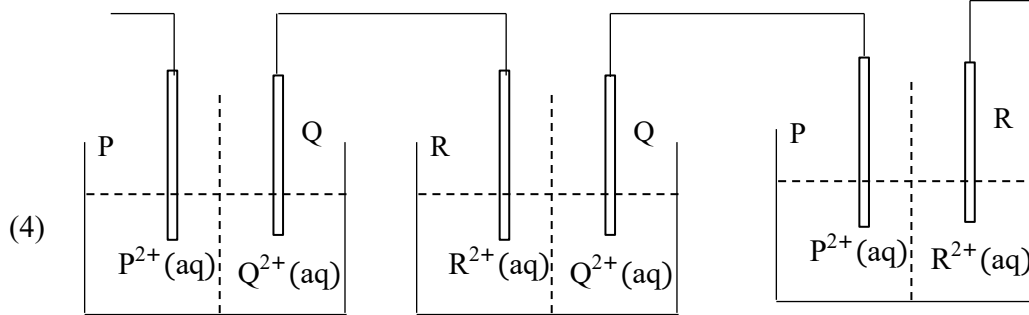
26. X ලවණය තනුක  $H_2SO_4$  සමග උණුසුම් කළ විට වායුවක් පිට කරයි. X හි ජලීය ද්‍රාවණයක්  $Ba(NO_3)_2$  සමග තනුක  $HNO_3$  හි ද්‍රාවය, සුදු අවක්ෂේපයක් ලබා දෙයි. කෙසේ වෙතත් X,  $H_2O_2$  සමග පිරියම් කර පසුව  $Ba(NO_3)_2$  එකතු කළ විට, තනුක  $HNO_3$  හි අද්‍රාව්‍ය සුදු අවක්ෂේපයක් සෑදෙයි. X ලවණයේ ඇති ඇනායනය කුමක්ද?  
 (1)  $SO_4^{2-}$                       (2)  $PO_4^{3-}$                       (3)  $SO_3^{2-}$                       (4)  $S^{2-}$                       (5)  $C_2O_4^{2-}$

27. යූරියා ( $NH_2CONH_2$ ) රත් කළ විට පහත දැක්වෙන පරිදි විශෝජනය වේ.  
 $NH_2CONH_2 + 3H_2O \rightarrow CO_2 + 2NH_4OH$   
 සාන්ද්‍රණය  $0.2 \text{ mol dm}^{-3}$  වන  $Al(NO_3)_3$  ද්‍රාවණ  $100 \text{ cm}^3$  ක ඇති  $Al$  අවක්ෂේප කිරීම සඳහා අවශ්‍ය වන යූරියා ස්කන්ධය වනුයේ, ( $H = 1.0$ ,  $C = 12.0$ ,  $N = 14.0$ ,  $O = 16.0$ )  
 (1) 1.80 g                      (2) 0.90 g                      (3) 2.70 g                      (4) 3.60 g                      (5) 1.20 g

28. P, Q සහ R ලෝහ සඳහා සම්මත ඔක්සිහරණ විභව පහත දී ඇත.  
 $P^{2+}(aq) + 2e \rightarrow P(s); E^0 = -2.2 \text{ V}$   
 $Q^{2+}(aq) + 2e \rightarrow Q(s); E^0 = +1.2 \text{ V}$   
 $R^{2+}(aq) + 2e \rightarrow R(s); E^0 = -2.8 \text{ V}$

සම්මත අවස්ථාවේ ඇති P, Q සහ R අර්ධ කෝෂ භාවිතයෙන් තනාගත් විද්‍යුත් රසායනික කෝෂ තුන පහත දී ඇති කවර ආකාරයකින් සම්බන්ධ කළ හොත් 8.0 V විද්‍යුත් ගාමක බලයක් ලබා දෙයිද?





29.  $[\text{Fe}(\text{H}_2\text{O}_5)\text{OH}]^{2+}$  හි IUPAC නාමය වනුයේ?

- (1) Hydroxopentaquairon (III) ion
- (2) Pentaquahydroxyiron(III) ion
- (3) Pentaquahydroxoferrous(II) ion
- (4) Hydroxopentaquairon (II) ion
- (5) Pentaquahydroxoiron (III) ion

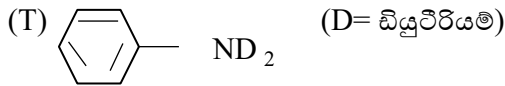
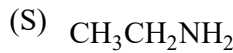
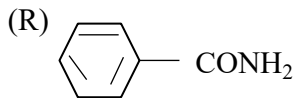
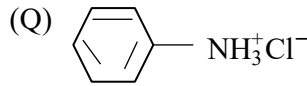
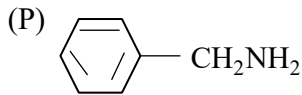
30. NaOH ප්‍රමාණයෙන් 50% ක්  $\text{Na}_2\text{CO}_3$  බවට පරිවර්තනය වන තුරු  $0.10\text{mol dm}^{-3}$  NaOH ද්‍රාවණ  $25.00\text{cm}^3$  ක් කුළින්  $\text{CO}_2$  යවන ලදී. ෆිනොප්තලින් දර්ශකය ලෙස යොදා ගනිමින් මෙම ද්‍රාවණය  $0.10\text{mol dm}^{-3}$  HCl ද්‍රාවණයක් සමග අනුපමානය කරන ලදී. අනුපමානයේදී අන්ත ලක්ෂ්‍යය වනුයේ,

- (1)  $18.75\text{ cm}^3$
- (2)  $20.00\text{ cm}^3$
- (3)  $37.50\text{ cm}^3$
- (4)  $25.00\text{ cm}^3$
- (5)  $12.50\text{ cm}^3$

31. NaCl  $m_1$  g ද  $\text{MgCl}_2$   $m_2$  g ද ජලයේ ද්‍රාවණය කර  $1.0\text{dm}^3$  දක්වා තනුක කරන ලදී. මෙම ද්‍රාවණයෙන්  $25.00\text{cm}^3$  ක්  $\text{AgNO}_3$  ද්‍රාවණ වැඩිමනත් ප්‍රමාණයක් සමග පිරියම් කරන ලදී. ලැබුණු AgCl අවක්ෂේපයේ ස්කන්ධය  $m_3$  g විය. පහත දැක්වෙන කුමන ප්‍රකාශ සත්‍ය වේ ද?

- |  |   |
|--|---|
| (1) $m_3 = \frac{m_1}{m_2} + \frac{2m_1}{m_2} \times M_3$                                      | (2) $m_3 = \left[ \frac{m_1}{M_1} + \frac{2m_2}{M_2} \right] \times M_3$                      |
| (3) $m_3 = \frac{25}{1000} \times \left[ \frac{m_1}{M_1} + \frac{m_2}{M_2} \right] \times M_3$ | (4) $m_3 = \frac{1}{1000} \times \left[ \frac{m_1}{M_1} + \frac{m_2}{M_2} \right] \times M_3$ |
| (5) $m_3 = \frac{25}{1000} \left[ \frac{m_1}{M_1} + \frac{2m_2}{M_2} \right] \times M_3$       |   |

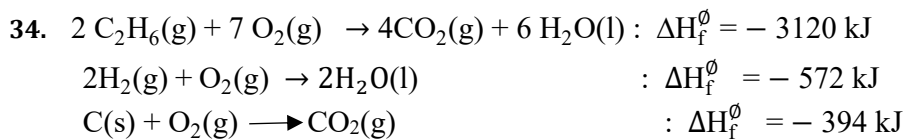
32. 5<sup>0</sup>C දී තනුක HCl සහ NaNO<sub>2</sub> සමග පිරියම් කළ විට ඩයසෝනියම් ලවණයක් සාදන්නේ පහත සඳහන් P, Q, R, S සහ T යන සංයෝග වලින් කවරක් ද?



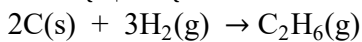
- (1) P සහ Q      (2) Q සහ R      (3) R සහ T      (4) Q සහ T      (5) S සහ T

33. පහත දැක්වෙන ප්‍රකාශ වලින් කවරක් සාවද්‍ය ද?

- (1) ඛනිජ තෙල් පිරිපහදු කිරීමේ දී භාගික ආසවනය භාවිත කෙරේ.
- (2) භාගික ආසවන ක්‍රියාවලිය පැහැදිලි කිරීමට රවුල්ගේ නියමය භාවිත කළ හැක.
- (3) පැහිරි තෙල් නිස්සාරණය කිරීම සඳහා හුමාල ආසවනය භාවිත කෙරේ.
- (4) හුමාල ආසවන ක්‍රියාවලිය පැහැදිලි කිරීමට රවුල් නියමය භාවිත කළ හැක.
- (5) A හා B සංශුද්ධ ද්‍රව දෙකක ද්වයංගි මිශ්‍රණයක්, අන්තර් අණුක ක්‍රියාවලිය ප්‍රබලතාව A, A < A, B < B, B වන විට රවුල්ගේ නියමයෙන් සාණ අපගමනයක් පෙන්වයි.



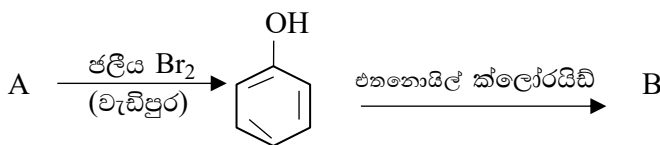
පහත දී ඇති දත්ත භාවිතයෙන්



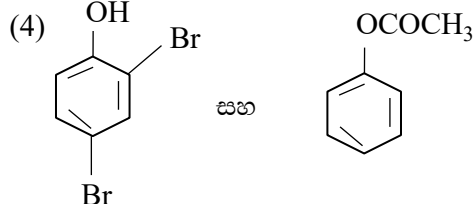
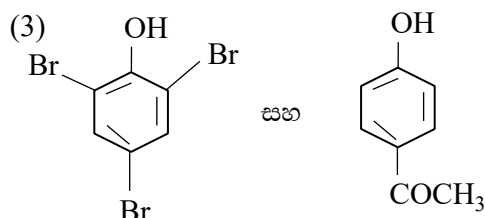
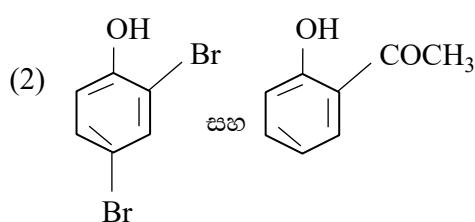
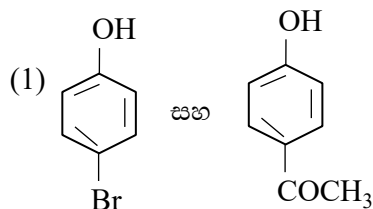
යන ප්‍රතික්‍රියාව සඳහා ගණනය කළ සම්මත එන්තැල්පි විපර්යාසය  $\Delta H^\ominus$  වනුයේ

- (1) +25 kJ      (2) -58 kJ      (3) +86 kJ      (4) -86 kJ      (5) -52 kJ

35. ෆීනෝල් හි පහත දැක්වෙන ප්‍රතික්‍රියා සලකන්න.



A හි B ව්‍යුහ වනුයේ පිළිවෙළින්,





• අංක 41 සිට 50 තෙක් ප්‍රශ්න වලට උපදෙස් :

අංක 41 සිට 50 තෙක් එක් එක් ප්‍රශ්නයේ දක්වා ඇති (a), (b), (c) සහ (d) යන ප්‍රතිචාර හතර අතුරින් එකක් හෝ වැඩි සංඛ්‍යාවක් නිවැරදි ය. නිවැරදි ප්‍රතිචාර කවරේ දැයි තෝරා ගන්න.

- (a) සහ (b) පමණක් නිවැරදි නම් (1) මතද
- (b) සහ (c) පමණක් නිවැරදි නම් (2) මතද
- (c) සහ (d) පමණක් නිවැරදි නම් (3) මතද
- (d) සහ (a) පමණක් නිවැරදි නම් (4) මතද

වෙනත් ප්‍රතිචාර සංඛ්‍යාවක් හෝ සංයෝජනයක් හෝ නිවැරදි නම් (5) මත ද උත්තර පත්‍රයෙහි ලකුණු කරන්න.

ඉහත උපදෙස් සම්පිණ්ඩනය				
(1)	(2)	(3)	(4)	(5)
(a) සහ (b) පමණක් නිවැරදි යි.	(b) සහ (c) පමණක් නිවැරදි යි.	(c) සහ (d) පමණක් නිවැරදි යි.	(d) සහ (a) පමණක් නිවැරදි යි.	වෙනත් ප්‍රතිචාර සංඛ්‍යාවක් හෝ සංයෝජනයක් නිවැරදි යි.

41. යම්කිසි මූලද්‍රව්‍යක් +3, +5 සහ +7 යන ස්ථායී ඔක්සිකරණ අවස්ථා පෙන්වයි. මෙම මූලද්‍රව්‍යය පෙන්වන වෙනත් ස්ථායී ඔක්සිකරණ අවස්ථාවක් / අවස්ථා වනුයේ,

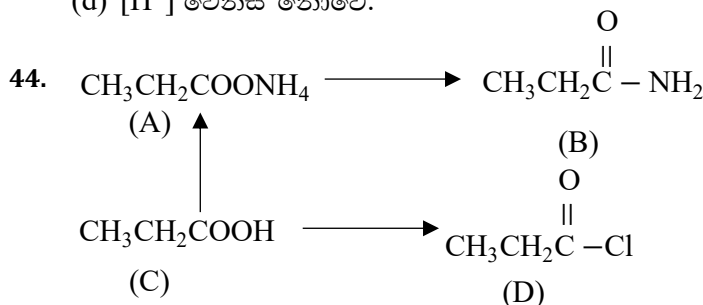
- (a) +1
- (b) +2
- (c) +6
- (d) -1

42. පහත දැක්වෙන කුමක් / කුමන ඒවා හරිතාගාර වායුවක් / වායු නොවේ ද?

- (a) CH<sub>4</sub>
- (b) CO<sub>2</sub>
- (c) O<sub>2</sub>
- (d) N<sub>2</sub>

43. සංතෘප්ත ජලීය Ca(OH)<sub>2</sub> ද්‍රාවණයකට CaCl<sub>2</sub>(s) යම්කිසි ප්‍රමාණයක් එකතු කිරීම හා සම්බන්ධ ව පහත දැක්වෙන කුමන වගන්තිය/ වගන්ති සත්‍ය වේද?

- (a) [OH<sup>-</sup>] සත්‍ය නොවේ.
- (b) Ca(OH)<sub>2</sub> යම් කිසි ප්‍රමාණයක් අවක්ෂේප වේ.
- (c) [Ca<sup>2+</sup>] වැඩි වේ
- (d) [H<sup>+</sup>] වෙනස් නොවේ.



ඉහත දක්වා ඇති ප්‍රතික්‍රියා පටිපාටිය සම්බන්ධව පහත දැක්වෙන කුමන වගන්තිය/ වගන්ති සත්‍ය වේ ද?

- (a) C, A ට මෙන්ම D, B ට පරිවර්තනය කිරීම සඳහා එකම ප්‍රතිකාරය භාවිත කළ හැකිය.
- (b) A රත් කිරීමේ දී, NH<sub>3</sub> සහ C ප්‍රධාන ඵල ලෙස සෑදේ.
- (c) C, CH<sub>3</sub>COOH ට වඩා ප්‍රහල අම්ලයකි.
- (d) D, AlCl<sub>3</sub> සමග CH<sub>3</sub>CH<sub>2</sub>CO<sup>+</sup>AlCl<sub>4</sub><sup>-</sup> සාදයි.

45. පහත දැක්වෙන ඒවායින් කුමක් / කුමන ඒවා වායුගෝලීය ඔක්සිජන් සමග ප්‍රතික්‍රියා කරයි ද?

- (a) ජලීය Lil ද්‍රාවණය
- (b) Mn(OH)<sub>2</sub> ජලීය අවලම්බනය
- (c) ජලීය Ca(OH)<sub>2</sub> ද්‍රාවණය
- (d) Cr(OH)<sub>3</sub> ජලීය අවලම්බනය

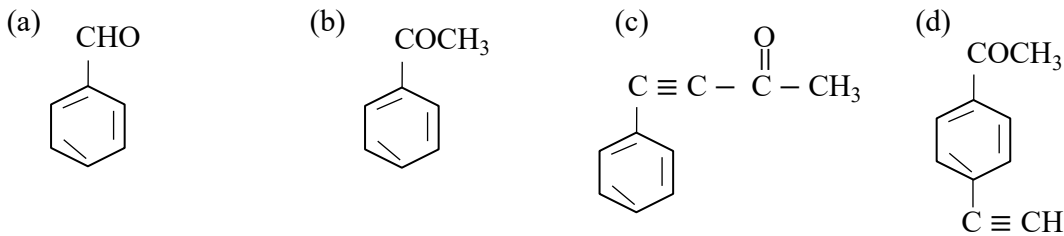
46. Al(OH)<sub>3</sub> සහ Zn(OH)<sub>2</sub> සම්බන්ධව කුමන වගන්තිය / වගන්ති සත්‍ය වේ ද?

ඒවා දෙකම

- (a) වැඩිපුර ජලීය NH<sub>4</sub>OH ද්‍රාවණයක ද්‍රාව්‍ය වේ.
- (b) වැඩිපුර ජලීය NH<sub>4</sub>OH ද්‍රාවණයක අද්‍රාව්‍ය වේ.
- (c) Al<sup>3+</sup> සහ Zn<sup>2+</sup> අයන අඩංගු ද්‍රාවණයකට NH<sub>4</sub>Cl සහ NH<sub>4</sub>OH එකතු කළ විට අවක්ෂේප වේ.
- (d) උභයගුණී වේ.

47. පහත දැක්වෙන ඒවායින් කුමන සංයෝගය / සංයෝග

- (i) ඇමෝනියා AgNO<sub>3</sub> සහ
- (ii) 2, 4 - ඩයිනයිට්‍රෝෆීනයිල්හයිඩ්‍රේස් (2- 4 dinitrophenylhydrazine) යන ප්‍රතිකාරක දෙක සමග වෙන වෙනම ප්‍රතික්‍රියා කරයිද?

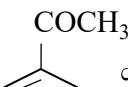


48. ලේ වැටලියර් මූලධර්මය සම්බන්ධව පහත දැක්වෙන කුමන වගන්තිය / වගන්ති සත්‍ය වේ ද?

- (a) එය ඕනෑම සමජාතීය සමතුලිතතා පද්ධතියකට යෙදිය හැක.
- (b) රසායනික ප්‍රතික්‍රියාවක ශීඝ්‍රතාවය, සාන්ද්‍රණය මත රඳා පැවතීම විස්තර කිරීම සඳහා එය භාවිත කළ හැක.
- (c) එය, වායු නිකුත් වන සමතුලිතතා ප්‍රතික්‍රියා පිළිබඳව නිවැරදි තොරතුරු ලබා නොදේ.
- (d) වායු කලාපයේ ඇති සමතුලිතතා පද්ධතියකට නිෂ්ක්‍රීය වායුවක් එකතු කළ විට ඇතිවන වෙනස විස්තර කිරීමට එය භාවිත කළ හැකි ය.

49. හයිඩ්‍රජන් පරමාණු වර්ණාවලියේ ලයිමාන් ශ්‍රේණියේ තුන් වන H<sub>γ</sub> සහ 4 වන (H<sub>δ</sub>) රේඛා අතර පරතරය සමාන වන්නේ පහත දැක්වෙන කවර රේඛා යුගලය / යුගල අතර පරතරයට / පරතරවලට ද?

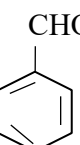
- (a) බාමර් ශ්‍රේණියේ 3 වන සහ 4 වන රේඛා
- (b) පාෂන් ශ්‍රේණියේ 1 වන සහ 2 වන රේඛා
- (c) බාමර් ශ්‍රේණියේ 2 වන සහ 3 වන රේඛා
- (d) බාමර් ශ්‍රේණියේ 3 වන සහ 4 වන රේඛා

50.  යන සංයෝගය පිළිබඳව පහත දැක්වෙන කුමන ප්‍රකාශය / ප්‍රකාශ සත්‍ය වේද?

(a) NaBH<sub>4</sub> මගින් ඔක්සිහරණය කළ විට ලැබෙන ඵලයෙහි අණු ප්‍රකාශ සක්‍රීය වේ.

(b) Fe ආශ්‍රයේදී බ්‍රෝමීකරණය කළ විට  සෑදේ.

(c) Zn(Hg) සහ සාන්ද්‍ර HCl මගින් ඔක්සිහරණය කළ විට ලැබෙන ඵලයෙහි අණු ප්‍රකාශ සක්‍රීය වේ.

(d) KMnO<sub>4</sub> මගින් ඔක්සිකරණය කළ විට  සෑදිය හැකි ය.

• අංක 51 සිට 60 තෙක් ප්‍රශ්න වලට උපදෙස් :

අංක 51 සිට 60 තෙක් එක් එක් ප්‍රශ්නය සඳහා ප්‍රකාශ දෙන බැගින් ඉදිරිපත් කර ඇත. එම ප්‍රකාශ යුගලයට හොඳින් ම ගැළපෙනුයේ පහත වගුවෙහි දැක්වෙන (1), (2),(3), (4) සහ (5) යන ප්‍රතිචාර වලින් කවර ප්‍රතිචාරදැයි තෝරා උත්තර පත්‍රයෙහි උචිත ලෙස ලකුණු කරන්න.

ප්‍රතිචාරය	පළමු වැනි ප්‍රකාශය	දෙවැනි ප්‍රකාශය
(1)	සත්‍ය ය.	සත්‍ය වන අතර, පළමුවැන්නනිවැරදිව පහදා දෙයි.
(2)	සත්‍ය ය.	සත්‍ය වන නමුත් පළමුවැන්නනිවැරදිව පහදා නොදෙයි.
(3)	සත්‍ය ය.	අසත්‍ය ය.
(4)	අසත්‍ය ය.	සත්‍ය ය.
(5)	අසත්‍ය ය.	අසත්‍ය ය.

	පළමුවැනි ප්‍රකාශය	දෙවැනි ප්‍රකාශය
51.	$I_2$ සංශුද්ධ ජලයෙහි දීට වඩා ජලීය KI හි ද්‍රාව්‍ය වේ.	නිර්ද්‍රැවීය $I_2$ වඩා ද්‍රාව්‍ය කරමින් KI, ජලයෙහි ද්‍රැවීයතාව අඩු කරයි.
52.	ප්‍රතිවර්තය ප්‍රතික්‍රියාවක් සමතුලිතතාවයේ ඇති විට ඉදිරි ප්‍රතික්‍රියාව ශීඝ්‍රතාව, පසු ප්‍රතික්‍රියාවේ ශීඝ්‍රතාවයට සමාන වේ.	සමතුලිතතාවයේදී ඉදිරි ප්‍රතික්‍රියාවේ සක්‍රීයන ශක්තිය පසු ප්‍රතික්‍රියාවේ සක්‍රීයන ශක්තියට සමාන වේ.
53.	$SO_2$ විරූපන කාරකයක් ලෙස භාවිත කරන විට, එය ඔක්සිකාරකයක් ලෙස ක්‍රියා කරයි.	විරූපන ක්‍රියාව සමාන්‍යයෙන් ඔක්සිකරන ක්‍රියාවලියක් වේ.
54.	$CH_3CH_2COCl$ , ජලීය $AgNO_3$ සමග $AgCl$ හි සුදු අවක්ෂේපයක් දෙයි.	අයනික ක්ලෝරින් සහිත කාබනික සංයෝග ජලීය $AgNO_3$ සමග $AgCl$ හි සුදු අවක්ෂේපයක් දෙයි.
55.	සිලිකා ( $SiO_2$ ) වලට ඉතා ඉහළ ද්‍රාව්‍යතාවක් ඇත.	Si - O බන්ධන, ප්‍රබල සහසංයුජ බන්ධන වේ.
56.	වායුවල ජලයෙහි ද්‍රාව්‍යතාව උෂ්ණත්වය අඩු වන විට වැඩි වේ.	වායු, ජලයෙහි ද්‍රාවණය වීම තාප දායක ක්‍රියාවලියකි.
57.	උෂ්ණත්වය වැඩි කළ විට, තාප අවශෝෂක ප්‍රතික්‍රියාවක සමතුලිතතාවය වැඩිපුර එල සාදමින් ඉදිරි දිශාවට නැඹුරු වේ.	තාප අවශෝෂක ප්‍රතික්‍රියාවක ඉදිරි ප්‍රතික්‍රියාවේ සක්‍රීයන ශක්තිය, පසු ප්‍රතික්‍රියාවේ සක්‍රීයන ශක්තියට වඩා වැඩි වේ.
58.	තනුක HCl වලින් ආම්ලිකතා ද්‍රාවණයකට $H_2S$ යැවූ විට $Zn^{2+}$ සහ $Mn^{2+}$ සල්ෆයිඩ් ලෙස අවක්ෂේප නොවේ.	$ZnS$ සහ $MnS$ , තනුක HCl හි ද්‍රාව්‍ය වේ.
59.	ඉතා පහළ පීඩන වලදී තාත්වික වායු සඳහා සම්පීඩ්‍යතා සංගුණකය $Z = (pV/ nRT)$ එකට ආසන්න වේ.	ඉතා පහළ පීඩන වලදී අන්තර් අණුක බල මගින් වායු අණුවල හැසිරීම කෙරෙහි බලපෑමක් ඇති නොවේ.
60.	ඉලෙක්ට්‍රෝන ඇතැම් විට අංශු ලෙසද , ඇතැම් විට තරංග ලෙසද හැසිරේ.	ඉලෙක්ට්‍රෝන වලට අංශුමය සහ තරංගමය යන ලක්ෂණ දෙකම ඇත.

\*\*\*

