



A කොටස - ව්‍යුහගත රචනා

මෙම තීරයේ කිසිවක් නො ලියන්න.

ප්‍රශ්න හතරටම මෙම පත්‍රයේම පිළිතුරු සපයන්න. (එක් එක් ප්‍රශ්නය සඳහා නියමිත ලකුණු ප්‍රමාණය 100 කි.)

1.

(a)

- (i) ඉහළම අයනික ලක්ෂණය සහිත බන්ධනය සාදන මූලද්‍රව්‍ය දෙක හඳුනාගන්න.
 

..... සහ .....
- (ii) වඩාත්ම ස්ථායී ද්විපරමාණුක අණුව සාදන මූලද්‍රව්‍යය හඳුනාගන්න. ....
- (iii) ඉහළම පළමුවන අයනීකරණ ශක්තිය සහිත මූලද්‍රව්‍යය හඳුනාගන්න. ....
- (iv) ඉලෙක්ට්‍රෝන උෟන සංයෝග සාදන මූලද්‍රව්‍ය දෙකක් හඳුනාගන්න.
 

..... සහ .....
- (v) ඉහළම ද්‍රවාංකය සහිත මූලද්‍රව්‍යය හඳුනාගන්න. ....
- (vi) ඉන්ධනයක් ලෙස භාවිතකළ හැකි වායුමය මූලද්‍රව්‍යය හඳුනාගන්න. ....
- (vii) එක්තරා අනුයාත මූලද්‍රව්‍ය හතක පළමුවන මූලද්‍රව්‍යයේ සිට හත්වන මූලද්‍රව්‍යය තෙක් අනුපිලිවෙලින් ගමන් කිරීමේදී, එක් එක් මූලද්‍රව්‍යයේ උපරිම ඔක්සිකරණ අංකය එක බැගින් වැඩිවේ. මෙම අනුයාත මූලද්‍රව්‍ය අතරින් පළමුවන මූලද්‍රව්‍යය සහ හත්වන මූලද්‍රව්‍යය හඳුනාගන්න.
 

පළමුවන ..... හත්වන .....
- (viii) ජලයෙහි කඩිනත්වය සඳහා හේතුවන එක් ලෝහමය මූලද්‍රව්‍යයක් හඳුනාගන්න.
 

.....

(ලකුණු 3.3 යි)

(b) X සහ Y යනු, X හි පරමාණුක ක්‍රමාංකය, Y හි පරමාණුක ක්‍රමාංකයට වඩා අඩුවන පරිදි ආවර්තිතා වගුවෙහි එකම ආවර්තයෙහි පිහිටි මූලද්‍රව්‍ය දෙකකි. වැඩිම ක්ලෝරීන් පරමාණු සංඛ්‍යාවක් සමඟ, X සහ Y සාදනු ලබන ක්ලෝරයිඩ,  $XCl_3$  සහ  $YCl_3$  වේ.

(i) X සහ Y හි රසායනික සංකේත ලියන්න.

X = ..... Y = .....

(ii)  $XCl_3$  සහ  $YCl_3$  අණුවල හැඩ නම් කරන්න.

$XCl_3$  : .....  $YCl_3$  : .....

(iii)  $YH_3$  සමඟ  $XCl_3$  ප්‍රතික්‍රියා කර Z සංයෝගය සාදයි. සියලු ම බන්ධන දක්වමින් , Z හි ව්‍යුහය, පහත දී ඇති කොටුව තුළ අඳින්න.



(iv) Z අණුවෙහි X හා Y වටා ඇති හැඩ (බන්ධනවල අවකාශමය සැකැස්ම) නම් කරන්න.

X : ..... Y : .....

(ලකුණු 3.5 යි)





II. මෙම වායු දෙවර්ගය සඳහා ඔබ විසින් අදීන ලද කටු සටහන් දෙකෙහි වෙනස සඳහා හේතු දෙකක් සඳහන් කරන්න.

.....

.....

.....

.....

(ii) 300 K සහ  $3.0 \times 10^5 \text{ N m}^{-2}$  හි දී **A** වායුව, පරිමාව  $2.0 \text{ m}^3$  වන භාජනයක ඇත. 300 K සහ  $5.0 \times 10^5 \text{ N m}^{-2}$  හි දී **B** වායුව, පරිමාව  $3.0 \text{ m}^3$  වන භාජනයක ඇත. වායු දෙකට සම්පූර්ණයෙන්ම මිශ්‍ර වීමට ඉඩ දෙමින් භාජන සම්බන්ධ කරනු ලැබේ. මිශ්‍රවීමේ දී රසායනික ප්‍රතික්‍රියා සිදු නොවේ. තවද, වායු දෙකෙහි උෂ්ණත්වයන් මුළු පරිමාවක් නොවෙනස්ව පවතී. පරිපූර්ණ වායු හැසිරීම් උපකල්පනය කරමින්, පහත දැක්වෙන දෑ ගණනය කරන්න.

I. සම්බන්ධිත භාජනවල මුළු පීඩනය

.....

.....

.....

.....

.....

.....

.....

.....

.....

.....

II. මිශ්‍රණයෙහි ඇති **B** වායුවෙහි මවුල භාගය

.....

.....

.....

.....

.....

III. භාජන දෙකෙහි මුළු පරිමාව එසේම පවත්වා ගනිමින් වායු මිශ්‍රණයෙහි උෂ්ණත්වය 350K තෙක් වැඩි කළ විට සම්බන්ධිත භාජනවල ඇති **B** වායුවෙහි ආංශික පීඩනය

.....  
.....  
.....  
.....  
.....  
.....

(ලකුණු 6.0 යි)

3.

(a)

(i) 2-methylpropene හි ව්‍යුහය අඳින්න.

(ii) 2-methylpropene වලට HBr ආකලනය වූ විට ලැබෙන ප්‍රධාන ඵලයෙහි හා අඩුවෙන් ලැබෙන ඵලයෙහි ව්‍යුහ, පිලිවෙළින් **P** සහ **Q** කොටු තුළ අඳින්න.

**P** : ප්‍රධාන ඵලය

**Q** : අඩුවෙන් ලැබෙන ඵලය


(iii) **P** කොටුව තුළ ඇඳි ව්‍යුහය ප්‍රධාන ඵලය වන්නේ මන්දැයි පැහැදිලි කරමින්, 2-methylpropene වලට HBr ආකලනය වීම සඳහා යන්ත්‍රණයක් යෝජනා කරන්න. [ඉඟිය : මෙම කොටසට පිළිතුරු සැපයීමේදී, propene වලට HBr ආකලනය වීමේ යන්ත්‍රණය සහ කාබොකැටායනවල ස්ථායීතාව පිළිබඳ ඔබගේ දැනුම උපයෝගී කර ගන්න.]

(ලකුණු 3.5 යි)

(b) **A** සංයෝගය (අණුක සූත්‍රය, C<sub>6</sub>H<sub>14</sub>O) ප්‍රකාශ සමාවයවිකතාව දක්වයි. එය ආම්ලික K<sub>2</sub>Cr<sub>2</sub>O<sub>7</sub> සමග කාමර උෂ්ණත්වයේ දී ප්‍රතික්‍රියා කර කාබොක්සිලික් අම්ලයක් ලබා දෙයි.

(i) **A** සඳහා තිබිය හැකි ව්‍යුහ පහත කොටු තුළ අඳින්න.

(ii) A සංයෝගය සාන්ද්‍ර H<sub>2</sub>SO<sub>4</sub> සමග රත් කළ විට B සංයෝගය (අණුක සූත්‍ර C<sub>6</sub>H<sub>12</sub>) සෑදේ. B සංයෝගය ද ප්‍රකාශ සමාවයවිකතාව දක්වයි. A සහ B හි ව්‍යුහ, අදාළ කොටු තුළ අඳින්න.



A



B

(iii) HBr සමග B ප්‍රතික්‍රියා කළ විට ප්‍රධාන ඵලය වශයෙන් C සංයෝගය ලැබේ. මදාසාරීය KOH සමග C සංයෝගය ප්‍රතික්‍රියා කළ විට D සහ E සංයෝග ලැබේ. D සහ E සංයෝග, B හි ව්‍යුහ සමාවයවික වේ. C, D සහ E හි ව්‍යුහ පහත කොටු තුළ අඳින්න.



C



D



E

(iv) D සහ E සංයෝග දෙක වෙන වෙනම තනුක H<sub>2</sub>SO<sub>4</sub> සමග ප්‍රතික්‍රියා කළ විට F නමැති එකම සංයෝගය ලබා දෙයි. F සංයෝගය A හි ව්‍යුහ සමාවයවිකයකි. F හි ව්‍යුහය පහත කොටුව තුළ අඳින්න.

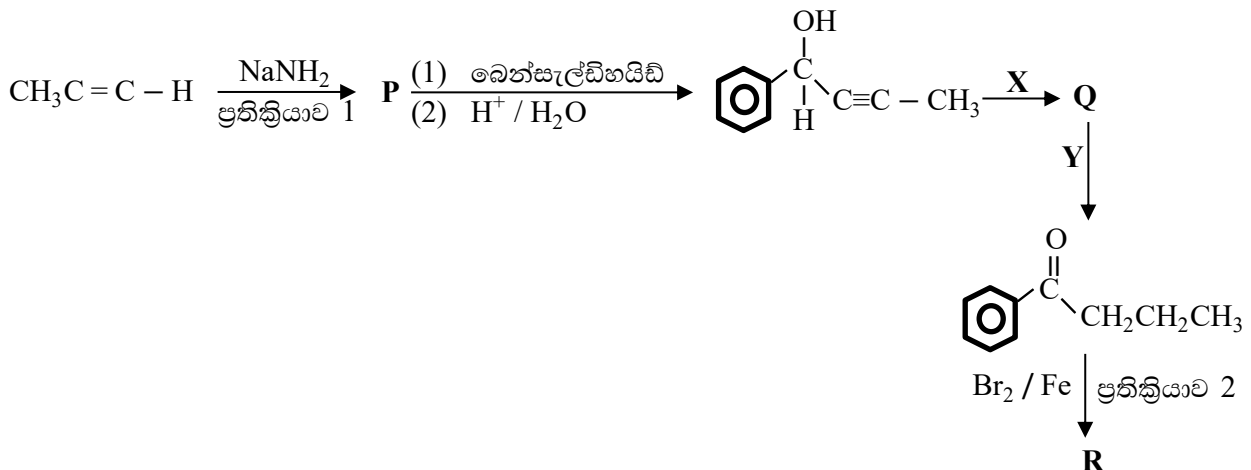


F

(ලකුණු 6.5 යි)

4.

(a) පහත දී ඇති ප්‍රතික්‍රියා අනුක්‍රමය සලකන්න.



(i) පහත දී ඇති කොටු තුළ P, Q හා R සංයෝගවල ව්‍යුහ අඳින්න.

P

Q

R

(ii) පහත දී ඇති කොටු තුළ X හා Y ප්‍රතිකාරක ලියන්න.

X

Y

(iii) ප්‍රතික්‍රියාව 1 සහ ප්‍රතික්‍රියාව 2 ලෙස ලේබල් කර ඇති ප්‍රතික්‍රියා, න්‍යූක්ලියෝෆිලික ආදේශය (S<sub>N</sub>), ඉලෙක්ට්‍රෝෆිලික ආදේශය (S<sub>E</sub>), න්‍යූක්ලියෝෆිලික ආකලනය (A<sub>N</sub>), ඉලෙක්ට්‍රෝෆිලික ආකලනය (A<sub>E</sub>) හෝ අම්ල - හස්ම (AB) ලෙස වර්ග කරන්න.

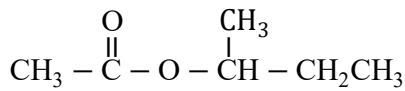
ප්‍රතික්‍රියාව 1	
------------------	--

ප්‍රතික්‍රියාව 2	
------------------	--

(iv) KCN සමග ඇල්කයිල් හේලයිඩවල ප්‍රතික්‍රියාව මතකයට නංවා ගනිමින්, CH<sub>3</sub>Br සමග P සංයෝගය ප්‍රතික්‍රියා කර ලබාදෙන ඵලයේ ව්‍යුහය ලියන්න.

(ලකුණු 2.7 යි)

(b) ලැයිස්තුවෙහි දී ඇති රසායන ද්‍රව්‍ය සහ ප්‍රතිකාරක පමණක් උපයෝගී කර ගනිමින් පහත දැක්වෙන සංයෝගයේ සංශ්ලේෂණයක් යෝජනා කරන්න.



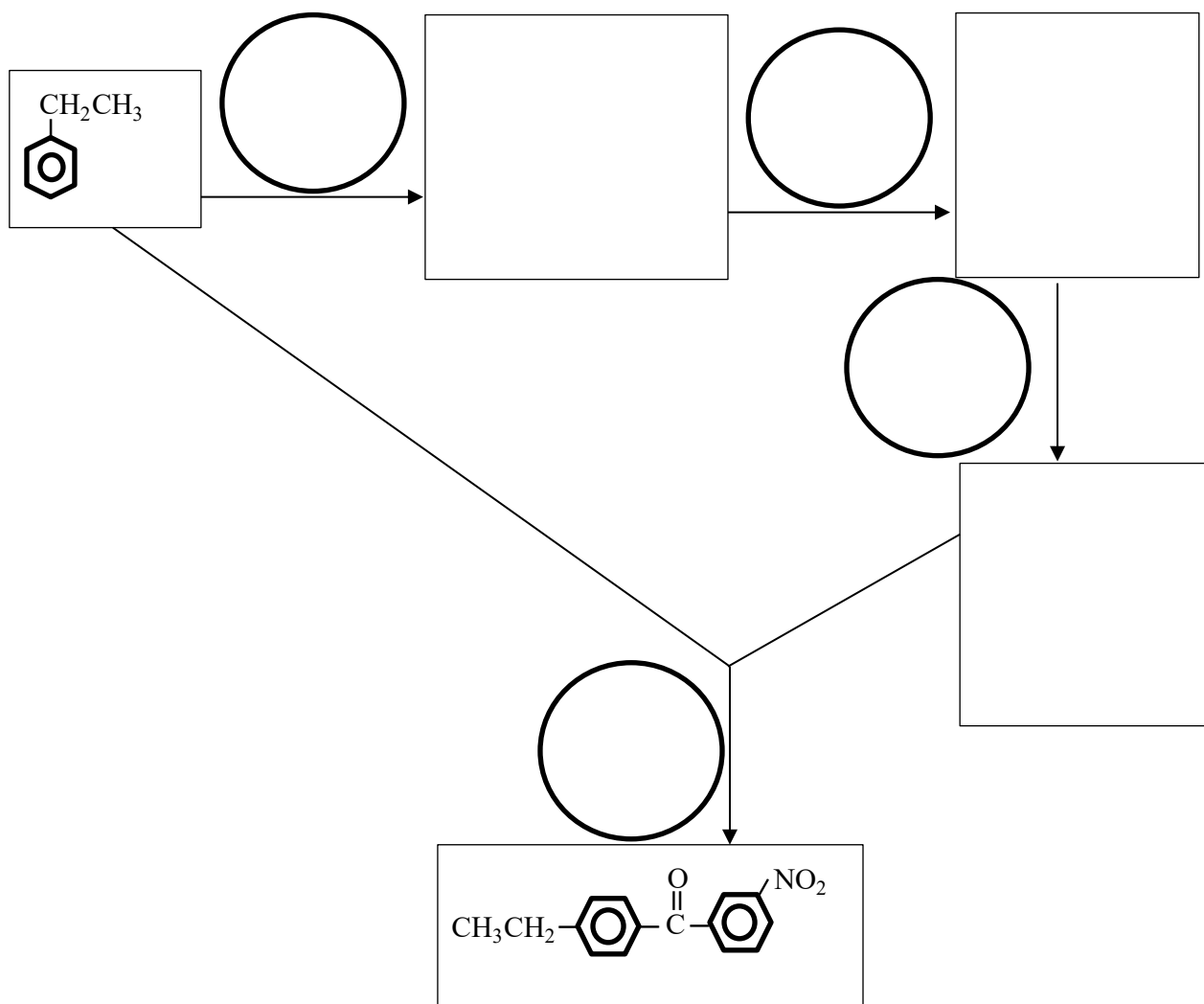
රසායන ද්‍රව්‍ය සහ ප්‍රතිකාරක ලැයිස්තුව :

CH<sub>3</sub>CHO, PBr<sub>3</sub>, Mg, ඊතර්, තනුක H<sub>2</sub>SO<sub>4</sub>, NaBH<sub>4</sub>, K<sub>2</sub>Cr<sub>2</sub>O<sub>7</sub>, සාන්ද්‍ර H<sub>2</sub>SO<sub>4</sub>

(ලකුණු 4.7 යි)

(c) කොටු තුළ සංයෝගවල ව්‍යුහ ද වෘත්ත තුළ ප්‍රතිකාරක ද ලියමින්, පහත දැක්වෙන ප්‍රතික්‍රියා පටිපාටිය සම්පූර්ණ කරන්න.

මෙම තීරයේ කිසිවක් නො ලියන්න.



(ලකුණු 2.8 යි)



(ii) ඉන්පසු B(g) හි 0.30 mol ක් භාජනයට එක් කර පද්ධතිය එම උෂ්ණත්වයේදීම සමතුලිතතාවට එළඹීමට ඉඩ හරින ලදී. සමතුලිතතාවට පත්වූ පසු A(g) හි ප්‍රමාණය, B(g) එක් කිරීමට පෙර භාජනයේ තිබූ A(g)හි ප්‍රමාණයට වඩා x mol වලින් වැඩි ය. භාජනයේ A(g) හි නව ආංශික පීඩනය, P<sub>A</sub> සඳහා ගණිතමය ප්‍රකාශනය x ඇසුරෙන් ව්‍යුත්පන්න කරන්න. (මෙම ප්‍රකාශනයෙහි x හැර වෙනත් සංකේත නොතිබිය යුතු ය.)

(ලකුණු 9.0 යි)

6.

(a)

පරීක්ෂණ අංකය	උෂ්ණත්වය/°C	ආරම්භක සාන්ද්‍රණය / mol dm <sup>-3</sup>			ආරම්භක සීඝ්‍රතාව/ mol dm <sup>-3</sup> s <sup>-1</sup>
		X(aq)	Y(aq)	D(aq)	
1	30	1.0	0.50	-	0.0020
2	30	0.50	0.50	-	0.0010
3	30	0.50	1.0	-	0.0040
4	30	0.50	1.0	0.50	0.020
5	30	0.50	1.0	1.0	0.020
6	50	0.50	1.0	-	0.016

පරීක්ෂණ අංක 4 සහ 5, D නම් ද්‍රව්‍යය හමුවේ සිදුකරන ලදී.

- (i) ඉහත ප්‍රතික්‍රියාවේ සීඝ්‍රතාව සඳහා ගණිතමය ප්‍රකාශනයක්, X(aq) හි සහ Y(aq) හි සාන්ද්‍රණ ඇසුරෙන් ලියන්න.
- (ii) X(aq) සහ Y(aq) යන එක් එක් ප්‍රතික්‍රියකයට සාපේක්ෂව 30°C දී ඉහත ප්‍රතික්‍රියාවේ පෙළ ගණනය කරන්න.
- (iii) X(aq) හි ආරම්භක සාන්ද්‍රණය 0.50 mol dm<sup>-3</sup> ද Y(aq) හි ආරම්භක සාන්ද්‍රණය 2.0 mol dm<sup>-3</sup> ද වන විට 30°C දී, ඉහත ප්‍රතික්‍රියාවේ ආරම්භක සීඝ්‍රතාව ගණනය කරන්න.
- (iv) X(aq) + Y(aq) → Z(aq) ප්‍රතික්‍රියාවේදී, D(aq) හි කාර්යභාරය කුමක් ද?
- (v) D නොමැති අවස්ථාවේදී ප්‍රතික්‍රියාවේ සීඝ්‍රතාහි තීරක පියවර (rate determining step) සඳහා වන ශක්තිය සහ ප්‍රතික්‍රියා බණ්ඩාංක අතර කටුසටහන් කරන්න. D සහිතව ප්‍රතික්‍රියාව සිදුවන අවස්ථාව සඳහා වන වක්‍රය ද එම රූපයේම කටුසටහන් කරන්න. ඔබේ රූපයෙහි අක්ෂ සහ වක්‍ර දෙක පැහැදිලිව නම් කරන්න.
- (vi) පරීක්ෂණ අංක 3 හි ආරම්භක සීඝ්‍රතා ප්‍රතිඵලය හා සසඳන කල්හි පරීක්ෂණ අංක 6 හි ආරම්භක සීඝ්‍රතා ප්‍රතිඵලය ඔබ පැහැදිලි කරන්නේ කේසේ ද?

(ලකුණු 6.0 යි)

(b)

- (i) 25°C දී පිළියෙල කරන ලද පහත දී ඇති P, Q, R සහ S ද්‍රාවණ සලකන්න.  
 P : 0.056 mol dm<sup>-3</sup> CH<sub>3</sub>COOH හි 100.0 cm<sup>3</sup>  
 Q : 0.056 mol dm<sup>-3</sup> CH<sub>3</sub>COOH හි 50.0 cm<sup>3</sup> ක සහ 0.200 mol dm<sup>-3</sup> HCl හි 50.0 cm<sup>3</sup> ක මිශ්‍රණය  
 R : 0.020 mol dm<sup>-3</sup> HCl හි 50.0 cm<sup>3</sup> ක සහ 0.022 mol dm<sup>-3</sup> NaOH හි 50.0 cm<sup>3</sup> ක මිශ්‍රණය

S :  $0.056 \text{ mol dm}^{-3} \text{ NaOH}$  හි  $100.0 \text{ cm}^3$

$25^\circ\text{C}$  දී ,  $\text{CH}_3\text{COOH}$  හි විඝටන නියතය  $K_a$  සහ ජලයෙහි අයනික ගුණිතය,  $K_w$  පිළිවෙලින්  $1.8 \times 10^{-5} \text{ mol dm}^{-3}$  සහ  $1.0 \times 10^{-14} \text{ mol}^2 \text{ dm}^{-6}$  වේ.

I. P ද්‍රාවණයෙහි, Q ද්‍රාවණයෙහි සහ R ද්‍රාවණයෙහි pH ගණනය කරන්න.

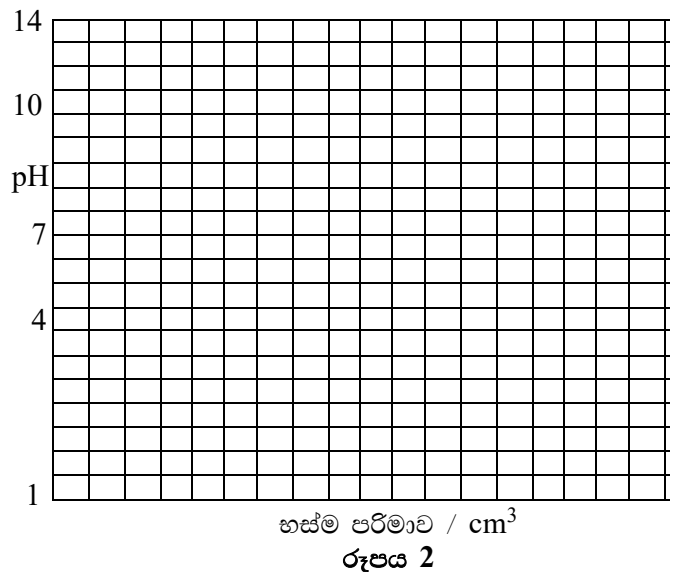
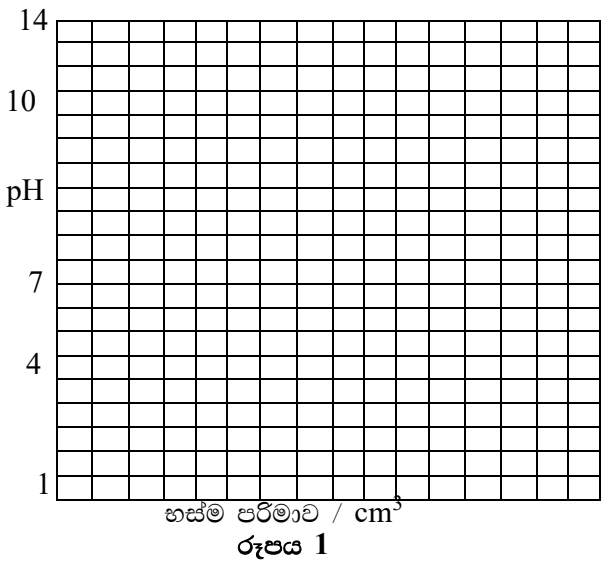
එක් එක් ගණනය කිරීමේදී ඔබ භාවිත කළ යම් උපකල්පන වෙතොත්, ඒවා සඳහන් කරන්න.

II. P, Q, R සහ S යන ද්‍රාවණවලින් දෙකක් භාවිත කර , ස්වරක්ෂක ද්‍රාවණයක් සෑදිය හැකි ආකාරය දක්වන්න.

(ii)

I. අම්ල-හස්ම වර්ණ දර්ශකයක ඉතා තනුක ජලීය ද්‍රාවණයක් ඔබට සපයා ඇත. ද්‍රාවණයක pH මැනීම සඳහා අවශ්‍ය පහසුකම් සමග ඉතා තනුක ජලීය HCl සහ NaOH ද්‍රාවණ ද ඔබට සපයා ඇත. මෙම දර්ශකයේ වර්ණ විපර්යාසය දක්වන pH පරාසය ඔබ නිර්ණය කරන්නේ කෙසේදැයි කෙටියෙන් විස්තර කරන්න.

II. අම්ල /හස්ම යුගල දෙකක අනුමාපන සඳහා pH- අනුමාපන වක්‍ර රූපය 1 හා රූපය 2 මගින් දැක්වේ. වර්ණ විපර්යාස දක්වන pH පරාස සමගින් දර්ශක ලැයිස්තුවක් පහත වගුවේ දී ඇත. 1 සහ 2 රූපවලින් නිරූපණය වන එක් එක් අනුමාපනය සඳහා භාවිත කිරීමට සුදුසු එක් දර්ශකය බැගින් ලැයිස්තුවෙන් තෝරා දක්වන්න



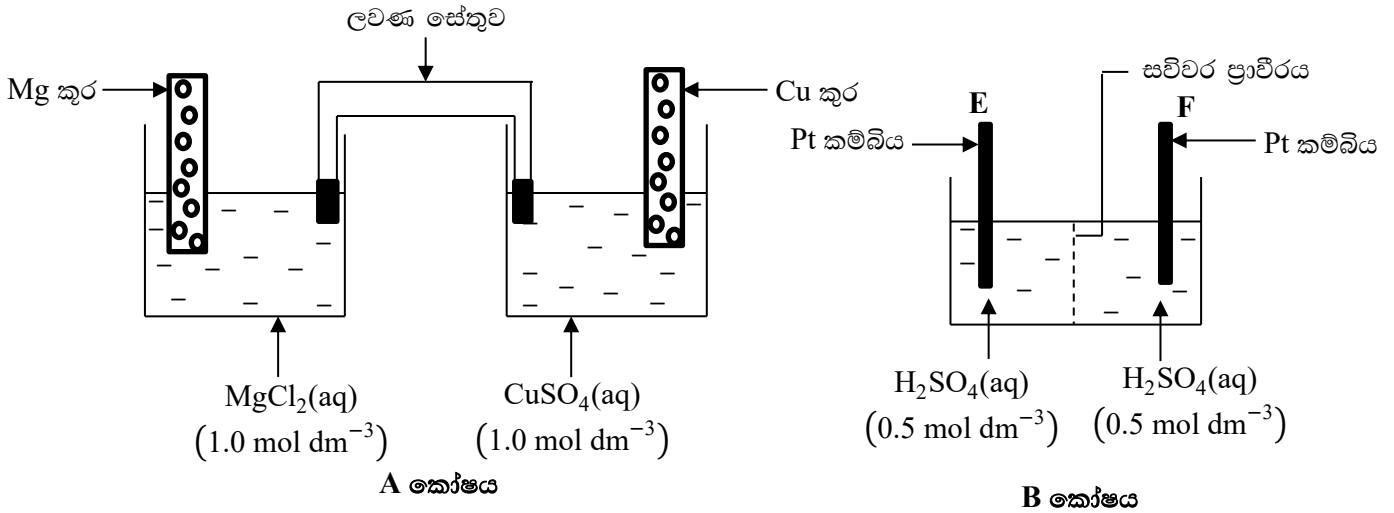
දර්ශක සහ ඒවායේ pH පරාසය

දර්ශකය	වර්ණ විපර්යාස දක්වන pH පරාසය එකතුව
K	1.5 – 3.4
L	4.8 – 6.4
M	6.0 – 7.8
N	8.3 – 9.8
U	9.0 – 11.0

(ලකුණු 9.0 යි)

7.

(a) 25°C හිදී ක්‍රියාකාරී වන, පහත සඳහන් විද්‍යුත් රසායනික කෝෂ දෙක සලකන්න.



$$25^\circ\text{C හිදී } E^\ominus_{\text{Mg}^{2+}(\text{aq})/\text{Mg}(\text{s})} = -2.37 \text{ V}$$

$$E^\ominus_{\text{Cu}^{2+}(\text{aq})/\text{Cu}(\text{s})} = 0.34 \text{ V}$$

(i) සිට (iii) තෙක් ප්‍රශ්න, A විද්‍යුත් රසායනික කෝෂය හා සම්බන්ධ වේ.

- (i) කෝෂයෙහි විද්‍යුත් ගාමක බලය (වි.ගා.බ., e.m.f.) ගණනය කරන්න.
- (ii) කෝෂයෙහි  $1.0 \text{ mol dm}^{-3} \text{ MgCl}_2$  ද්‍රාවණය වෙනුවට,  $1.0 \text{ mol dm}^{-3} \text{ MgSO}_4$  ද්‍රාවණයක් භාවිත කළේ නම්, කෝෂ වි.ගා.බ. විය හැකි ද? ඔබේ පිළිතුර කෙටියෙන් පැහැදිලි කරන්න.
- (iii) ලවණ සේතුවෙහි ක්‍රියාකාරීත්වය කුමක් ද?

ලවණ සේතුව සෑදීම සඳහා භාවිත කළ හැකි සංයෝගයකට උදාහරණයක් දෙන්න.

(iv) සහ (v) ප්‍රශ්න, A කෝෂයෙහි ඇති ඉලෙක්ට්‍රෝඩ දෙක Cu කම්බියකින් යා කළ විට ලැබෙන අවස්ථාව හා සම්බන්ධ වේ.

(iv) කුමන ඉලෙක්ට්‍රෝඩය කැතෝඩය ලෙස ක්‍රියා කරන්නේ දැයි සඳහන් කරන්න.

(v) පහත සඳහන් දෑ සඳහා තුලිත සමීකරණ ලියන්න.

- I. කැතෝඩික ප්‍රතික්‍රියාව
- II. ඇනෝඩික ප්‍රතික්‍රියාව
- III. සමස්ත කෝෂ ප්‍රතික්‍රියාව

(vi) සිට (viii) තෙක් ප්‍රශ්න, A කෝෂයෙහි Cu කුර සහ Mg කුර පිළිවෙළින් B කෝෂයෙහි E ඉලෙක්ට්‍රෝඩයට සහ F ඉලෙක්ට්‍රෝඩයට Cu කම්බි මගින් යා කළ විට ලැබෙන සැකසුම හා සම්බන්ධ වේ.

(vi) B කෝෂයෙහි කුමන ඉලෙක්ට්‍රෝඩය කැතෝඩය ලෙස ක්‍රියා කරයි ද?

(vii) පහත දී ඇති ඉලෙක්ට්‍රෝඩවල සිදුවන ප්‍රතික්‍රියා සඳහා තුලිත සමීකරණ ලියන්න.

- I. E ඉලෙක්ට්‍රෝඩය
- II. F ඉලෙක්ට්‍රෝඩය

(viii) කෝෂ සැකසුමෙහි ගලන ධාරාව නියතව පවතී නම්,

- I. E සහ F ඉලෙක්ට්‍රෝඩ දෙකෙහි වර්ගඵල වැඩි කරන විට,
- II. B කෝෂයෙහි  $\text{H}_2\text{SO}_4$  සාන්ද්‍රණය වැඩි කරන විට,

දී ඇති කාල ප්‍රාන්තරයක් තුළ F ඉලෙක්ට්‍රෝඩයෙහි සෑදෙන ඵල ප්‍රමාණයෙහි ඔබට අපේක්ෂා කළ හැකි වෙනස සඳහන් කරන්න.

(ලකුණු 7.5 යි)

(b) 25°C හිදී සාන්ද්‍රණය 0.0020 mol dm<sup>-3</sup> වූ Cl<sup>-</sup> සහ සාන්ද්‍රණය 0.0010 mol dm<sup>-3</sup> වූ Br<sup>-</sup> අඩංගු ජලීය ද්‍රාවණ 100.0 cm<sup>3</sup> කට සාන්ද්‍රණය 0.050 mol dm<sup>-3</sup> වූ ජලීය AgNO<sub>3</sub> ද්‍රාවණයක් සෙමෙන් එකතු කරන ලදී.

- (i) AgBr අවක්ෂේපණය ආරම්භ වීම සඳහා ද්‍රාවණය තුළ තිබිය යුතු Ag<sup>+</sup> අයනවල අවම සාන්ද්‍රණය ගණනය කරන්න.
- (ii) AgCl අවක්ෂේපණය ආරම්භ වන විටම ද්‍රාවණයේ ඉතිරි වී තිබිය හැකි Br<sup>-</sup> අයනවල උපරිම සාන්ද්‍රණය ගණනය කරන්න.
- (iii) ඉහත ගණනය කිරීම්වලදී ඔබ භාවිත කළ යම් උපකල්පන වෙනොත් සඳහන් කරන්න.
- (iv) ගුණාත්මක විශ්ලේෂණයේදී, Cl<sup>-</sup> අයන AgCl ලෙස අවක්ෂේප වූ විට එහි ද්‍රාව්‍යතාව, ජලීය ඇමෝනියා මඟින් පරික්ෂා කෙරේ. උචිත රසායනික සමීකරණ භාවිත කරමින්, මෙම ක්‍රියාවලිය හා සම්බන්ධ රසායනය පැහැදිලි කරන්න.

මෙම උෂ්ණත්වයේදී,

$$AgCl \text{ හි ද්‍රාව්‍යතා ගුණිතය} = 1.7 \times 10^{-10} \text{ mol}^2 \text{ dm}^{-6}$$

$$AgBr \text{ හි ද්‍රාව්‍යතා ගුණිතය} = 5.0 \times 10^{-13} \text{ mol}^2 \text{ dm}^{-6}$$

(ලකුණු 7.5 යි)

C කොටස - රචනා

ප්‍රශ්න දෙකකට පමණක් පිළිතුරු සපයන්න. (එක් එක් ප්‍රශ්නයට ලකුණු 15 බැගින් ලැබේ.)

8.

- (a) පහත දැක්වෙන ප්‍රශ්න, නයිට්‍රජන්හි ඔක්සයිඩ් මත පදනම් වේ.
  - (i) නයිට්‍රජන්හි ඔක්සිකරණ අංක එකිනෙකින් වෙනස් වන, නයිට්‍රජන්වල ඔක්සයිඩ් පහත රසායනික සූත්‍ර සහ බහුලව භාවිත වන නම් (common names) ලියා දක්වන්න.  
ඔබ හඳුනාගත් එක් එක් ඔක්සයිඩයෙහි නයිට්‍රජන්වල ඔක්සිකරණ අංකය දෙන්න.  
එක් එක් ඔක්සයිඩය ආම්ලික ද ,භාස්මික ද නැතහොත් උදාසීන ද යන්න දක්වන්න.
  - (ii) ඉහත (i) හි සඳහන් කරන ලද ඔක්සයිඩ් ලැයිස්තුවෙන් ඕනෑම තුනක් විද්‍යාගාරයේ දී පිළියෙල කර ගනු ලබන්නේ කෙසේදැයි දක්වන්න.
  - (iii) නයිට්‍රජන්හි ඔක්සිකරණ අංකය +1 වන නයිට්‍රජන් වල ඔක්සයිඩයෙහි සම්ප්‍රයුක්ත ව්‍යුහ අඳින්න.
  - (iv) කාමර උෂ්ණත්වයේදී හා වායුගෝල පීඩනයේදී නිර්සුග්මක (unpaired) ඉලෙක්ට්‍රෝන සහිත නයිට්‍රජන්හි ඔක්සයිඩ් දෙකක් දෙන්න. මෙම ඔක්සයිඩ් සිසිල් කළ විට රසායනික විපර්යාසය සඳහන් කරන්න.

(ලකුණු 6.0 යි)

(b) 3d ගොනුවේ මූලද්‍රව්‍යයක් වන M, සූත්‍රය  $2MXO_3$ ,  $M(OH)_2$  වන A සංයෝගයක් සාදයි. මෙහි X මූලද්‍රව්‍යය, p ගොනුවට අයත් වේ. A සංයෝගය සාන්ද්‍ර HCl සමග ප්‍රතික්‍රියා කර අවර්ණ, ගන්ධයක් නොමැති B වායුවක් හා කහ පැහැති C ද්‍රාවණයක් ලබා දෙයි. A ,තනුක HCl සමග ප්‍රතික්‍රියා කළ විට (අවර්ණ හා ගන්ධයක් නොමැති) එම B වායුවක් M හි සංකීර්ණ අයන දෙකක් අඩංගු කොළ පැහැති D ද්‍රාවණයකුත් ලබා දෙයි. D ද්‍රාවණය ජලය සමග තනුක කළ විට ලා නිල් පැහැති E ද්‍රාවණයක් ලබා දෙයි.  $NH_4OH$  සුළු ප්‍රමාණයක් E ට එකතු කළ විට නිල් පැහැති ජෙලටිනීය F අවක්ෂේපයක් සෑදෙයි. වැඩිපුර  $NH_4OH$  වල F ද්‍රවණය වී, තද නිල් පැහැති G ද්‍රාවණයක් සාදයි. වැඩිපුර KI සමග E ද්‍රාවණය පිරියම් කළ විට, එල ලෙස MI අවක්ෂේපය සහ අයඩීන් පමණක් සෑදේ.

- (i) M සහ X යන මූලද්‍රව්‍ය හඳුනාගන්න.
- (ii) M හි ඉලෙක්ට්‍රෝනික වින්‍යාසය දෙන්න.
- (iii) M හි බහුලව පවතින ඔක්සිකරණ අංක දක්වන්න.
- (iv) පහත සඳහන් ද්‍රාවණවල වර්ණ සඳහා හේතුවන අයනික විශේෂවල සූත්‍ර ලියා ,ඒවායේ IUPAC නාම දෙන්න.
  - I. C ද්‍රාවණය
  - II. D ද්‍රාවණය
  - III. E ද්‍රාවණය
  - IV. G ද්‍රාවණය
- (v) B වායුව සහ F අවක්ෂේපය හඳුනාගන්න.
- (vi) E ද්‍රවණය වැඩිපුර KI සමග දක්වන ප්‍රතික්‍රියාව සඳහා වන තුලිත රසායනික සමීකරණය දෙන්න.
- (vii) KI සමග E හි ප්‍රතික්‍රියාව භාවිත කර, සපයා ඇති A හි නියැදියක M හි ස්කන්ධ ප්‍රතිශතය පරීක්ෂණාත්මකව නිර්ණය කිරීමේ පියවර සඳහන් කරන්න.  
ඔබේ පරීක්ෂණාත්මක දත්ත ඇසුරෙන් M හි ස්කන්ධ ප්‍රතිශතය ගණනය කරනු ලබන ආකාරය දක්වන්න.
- (viii) උණු සාන්ද්‍ර  $H_2SO_4$  වෙන් වෙන්ව M සහ X දක්වන ප්‍රතික්‍රියා සඳහා තුලිත සමීකරණ ලියන්න.
- (ix) පහසුවෙන් ඔක්සිකරණය වන සමහර සංයෝග සමග භාස්මික තත්ත්ව යටතේ M හි සාමාන්‍යයෙන් පවතින ලවණ රත් කළ විට,  $M_2O$  අවක්ෂේප වේ. මෙම ක්‍රියාවලිය සඳහා තුලිත අර්ධ ප්‍රතික්‍රියාවක් ලියා, එම ප්‍රතික්‍රියාවෙහි එක් වැදගත් ප්‍රයෝජනයක් දක්වන්න.
- (x) M හි වැදගත් වාණිජමය භාවිත දෙකක් දක්වන්න.

(ලකුණු 9.0 යි)

9.

(a) අවර්ණ, ජලීය P ද්‍රාවණයෙහි, ලෝහ අයන තුනක් ඒවායේ නයිට්‍රේට් ලෙස අඩංගු වේ. P ද්‍රාවණය සමග සිදු කරන ලද පරීක්ෂා සහ ඒවායේ නිරීක්ෂණ පහත දැක්වේ.

පරීක්ෂාව	නිරීක්ෂණය
(1) P ද්‍රාවණයට වැඩිපුර $\text{NH}_4\text{OH}$ එකතු කරන ලදී.	සුදු අවක්ෂේපයක් (තනුක $\text{NaOH}$ හි ද්‍රාව්‍ය) සෑදිණ.
(2) (1) පරීක්ෂාවේ පෙරනය, තනුක $\text{HCl}$ සමග ආම්ලික කරන ලදී.	සුදු අවක්ෂේපයක් (තනුක $\text{HNO}_3$ හි අද්‍රාව්‍ය) සෑදිණ.
(3) (2) පරීක්ෂාවේ පෙරනයට බින්දු වශයෙන් $\text{NH}_4\text{OH}$ එකතු කරන ලදී.	සුදු අවක්ෂේපයක් ලැබුණි. එය වැඩිපුර $\text{NH}_4\text{OH}$ එක් කළ විට ද්‍රවණය විය.

(i) P ද්‍රාවණයෙහි ලෝහ අයන හඳුනාගන්න.

(ii) (1), (2) සහ (3) පරීක්ෂාවලදී ලැබුණු සුදු අවක්ෂේප හඳුනාගන්න.

(iii) (1) හා (3) පරීක්ෂාවලදී ලැබූ අවක්ෂේප කොබෝල්ට් නයිට්‍රේට් හමුවේ අගුරු කුට්ටි පරීක්ෂාවට භාජනය කළ විට බලාපොරොත්තු වන නිරීක්ෂණ දෙන්න.

(iv) (1) පරීක්ෂාවේදී සෑදුණු සුදු අවක්ෂේපය ,තනුක  $\text{NaOH}$  සමග දක්වන ප්‍රතික්‍රියාව සඳහා තුලිත රසායනික සමීකරණය දෙන්න.

(ලකුණු 4.5 යි)

(b) ජලීය Q ද්‍රාවණයක, ඇනායන දෙකක් ඒවායේ සෝඩියම් ලවණ ලෙස අඩංගු වේ. Q ද්‍රාවණය සමග සිදුකරන ලද පරීක්ෂා සහ ඒවායේ නිරීක්ෂණ පහත දී ඇත.

පරීක්ෂාව	නිරීක්ෂණය
(4) Q ද්‍රාවණයට $\text{BaCl}_2$ ද්‍රාවණයක් එකතු කරන ලදී.	සුදු අවක්ෂේපයක් (තනුක $\text{HNO}_3$ හි ද්‍රාව්‍ය) සෑදිණ.
(5) Q ද්‍රාවණයට ආම්ලික $\text{KMnO}_4$ එකතු කරන ලදී.	$\text{KMnO}_4$ ද්‍රාවණය නිර්වර්ණ විය.
(6) (5) පරීක්ෂාවෙන් පසු ලබාගත් ද්‍රාවණයට $\text{BaCl}_2$ ද්‍රාවණයක් එකතු කරන ලදී.	සුදු අවක්ෂේපයක් (තනුක $\text{HNO}_3$ හි අද්‍රාව්‍ය) සෑදිණ.
(7) (7.1) $\text{Pb}(\text{NO}_3)_2$ ද්‍රාවණය, Q ද්‍රාවණයට එකතු කරන ලදී.	සුදු අවක්ෂේපයක් සෑදිණ.
(7.2) සුදු අවක්ෂේප අඩංගු ද්‍රාවණය නටවන ලදී.	අවක්ෂේපයෙන් කොටසක් ද්‍රවණය විය.
(7.3) උණුසුම් තිබියදී, (7.2) මිශ්‍රණය පෙරා ගන්නා ලදී	පෙරනය සිසිල් කිරීමේ දී, ඉඳිකටු ආකාරයේ සුදු අවක්ෂේපයක් සෑදිණ.

- (i) Q ද්‍රාවණයේ ඇති ඇනායන දෙක හඳුනාගන්න.
- (ii) (4) සහ (6) පරීක්ෂාවලදී සෑදුණු සුදු අවක්ෂේප හඳුනාගන්න.
- (iii) (7.3) පරීක්ෂාවේදී සෑදුණු ඉඳිකටු වැනි සුදු අවක්ෂේපය හඳුනාගන්න.
- (iv) (5) පරීක්ෂාවට අදාළ ප්‍රතික්‍රියාව සඳහා තුලිත රසායනික සමීකරණය දෙන්න.

(ලකුණු 3.5 යි)

(c) නිෂ්ක්‍රීය ද්‍රව්‍යයක් හා  $Fe_3O_4$  කිසියම් ප්‍රමාණයක් අඩංගු හිමටයිට් ලෝපස් ( $Fe_2O_3$ ) නියැදියක්, එහි සංශුද්ධතාව නිර්ණය කිරීම සඳහා පහත දැක්වෙන ක්‍රියාවලිය අනුගමනය කර විශ්ලේෂණය කරන ලදී. ලෝපස් 8.00g ක නියැදියක් එහි ඇති සියලුම යකඩ,  $Fe^{2+}$  බවට පරිවර්තනය කිරීම සඳහා වැඩිපුර ජලීය  $KI(50\text{ cm}^3)$  සමග ආම්ලික මාධ්‍යයකදී පිරියම් කරන ලදී. අනතුරුව ද්‍රාවණය  $100.00\text{ cm}^3$  තෙක් තනුක කරන ලදී. තනුක කරන ලද ද්‍රාවණයේ  $25.00\text{ cm}^3$  කොටසක්  $1.00\text{ mol dm}^{-3}$   $Na_2S_2O_3$  සමග අනුමාපනය කළ විට, අන්ත ලක්ෂ්‍යයට එළැඹීම සඳහා  $24.00\text{ cm}^3$  ක පරිමාවක් අවශ්‍ය විය. තනුක කරන ලද ද්‍රාවණයෙන්  $25.00\text{ cm}^3$  ක වෙනත් කොටසක්, අයඩීන් මුළුමනින්ම ඉවත් කිරීම සඳහා  $CCl_4$  සමග හොඳින් සොලවා, අනතුරුව ලැබෙන ද්‍රාවණය  $1.00\text{ mol dm}^{-3}$   $KMnO_4$  ද්‍රාවණයක් සමග අනුමාපනය කරන ලදී.  $KMnO_4$  ද්‍රාවණය  $5.20\text{ cm}^3$  ක් එකතු කිරීමේ දී අන්ත ලක්ෂ්‍යයට එළැඹිණ.

(i) ආම්ලික මාධ්‍යයේදී ජලය පොටෑසියම් අයඩයිඩ් සමග පහත දැ සිදු කරන ප්‍රතික්‍රියා සඳහා තුලිත සමීකරණ ලියන්න.



(ii) ලෝපස්වල  $Fe_2O_3$  ස්කන්ධ ප්‍රතිශතය ගණනය කරන්න. ( $Fe = 56, O = 16$ ) (ලකුණු 7.0 යි)

10.

(a) මෝටර් රථවලින් විමෝචනය වන වායු, වායු දූෂණයෙහි එක් ප්‍රධාන ප්‍රභවයක් වේ.

- (i) මෝටර් රථ විමෝචනවල අඩංගු දූෂක හයක් ලැයිස්තුගත කරන්න.
- (ii) ඉහත (i) හි පිළිතුරු අතුරින්, අම්ල වැසි සඳහා හේතුවන දූෂක දෙකක් නම් කරන්න.
- (iii) ඉහත (ii) හි සඳහන් කරන ලද දූෂක දෙක, දහන ක්‍රියාවලියේදී නිපැයෙන්නේ කේසේදැයි කෙටියෙන් දක්වන්න.
- (iv) ඉහත (i) හි දී ඇති පිළිතුරු අතුරින්, හරිතාගාර ආචරණය කෙරෙහි බලපාන දූෂක දෙකක් නම් කරන්න.
- (v) ඉහත (iv) හි දී ඇති දූෂක, හරිතාගාර ආචරණයට දායක වන්නේ කෙසේදැයි කෙටියෙන් දක්වන්න.
- (vi) හරිතාගාර ආචරණයෙහි ප්‍රතිවිපාක දෙකක් දෙන්න.
- (vii) මෝටර් රථ විමෝචනය මගින් සිදුවන පරිසර දූෂණය අවම කිරීම සඳහා යොදා ගනු ලබන ක්‍රම දෙකක් නම් කරන්න

(ලකුණු 7.5 යි)

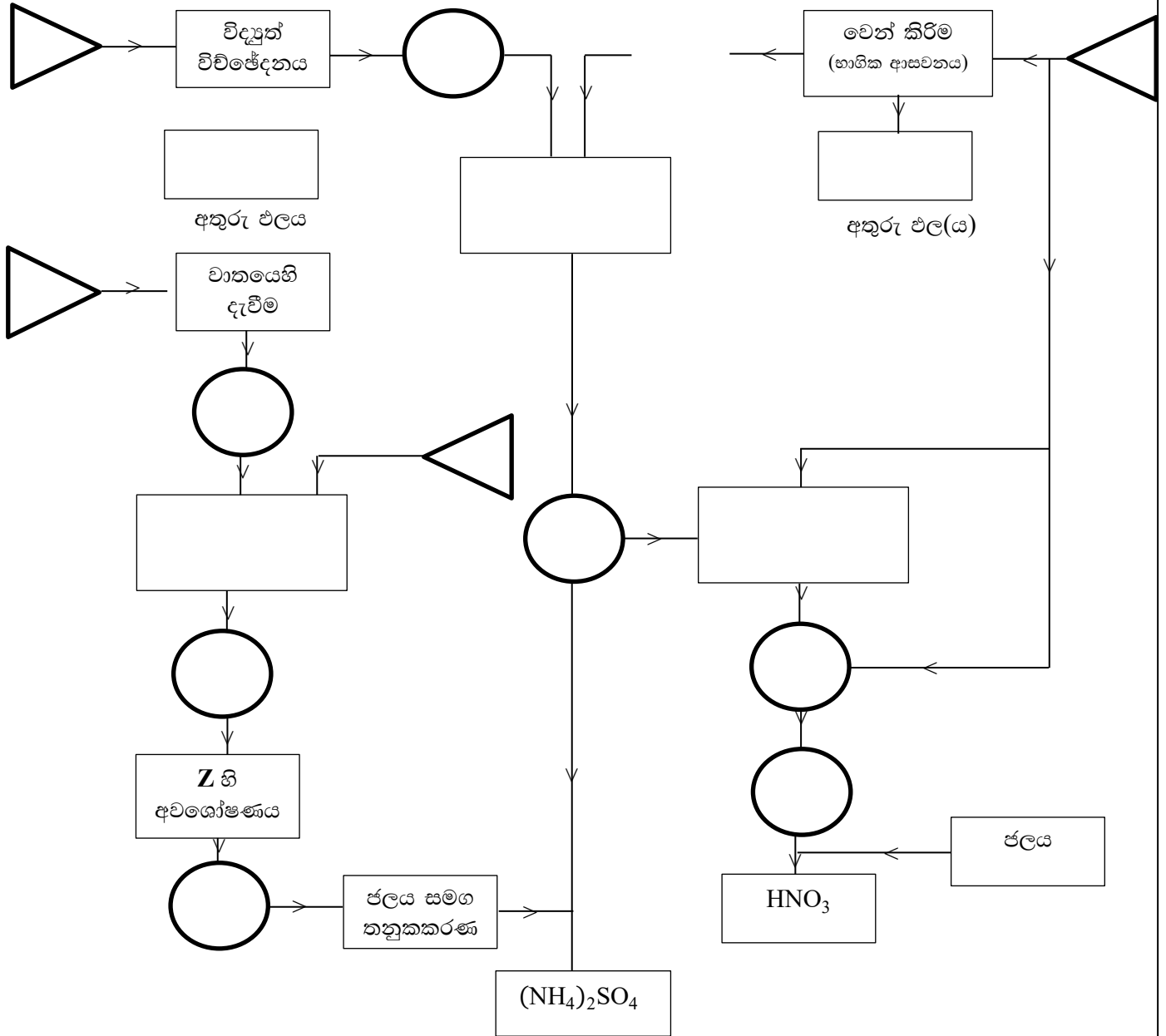
(b) A, B සහ C යන ආරම්භක ද්‍රව්‍යවල සිට  $HNO_3$  සහ  $(NH_4)_2 SO_4$  නිෂ්පාදනය සඳහා 14 වන පිටුවේ (A කොටසේ අවසාන පිටුව) දී ඇති ගැලීම් සටහන සලකා බලන්න. පහත දී ඇති උපදෙස් අනුව ගැලීම් සටහන සම්පූර්ණ කර එම ගැලීම් සටහන ඇසුරෙන් 14 වන පිටුවෙහි ඇති ප්‍රශ්නවලට පිළිතුරු සපයන්න.

- ස්වභාවිකව ලබා ගත හැකි ආරම්භක ද්‍රව්‍ය වන A, B සහ C හි නම් ත්‍රිකෝණ තුළ ලියන්න.
- ක්‍රියාවලියේදී හමුවන ද්‍රව්‍යවල රසායනක සූත්‍ර වෘත්ත තුළ ලියන්න.
- අදාළ ප්‍රතික්‍රියා සඳහා අවශ්‍ය වන තත්ත්ව F, G සහ H කොටු තුළ ලියන්න.
- අදාළ ප්‍රතික්‍රියාවල/ක්‍රියාවලිවල අතුරු ඵල D සහ E කොටු තුළ ලියන්න.

(ලකුණු 7.5 යි)

• C කොටසෙහි අංක 10 ප්‍රශ්නයට පිළිතුරු සැපයීම සඳහා පමණක් මෙම පිටුව භාවිත කරන්න.

(b) (අංක 10 ප්‍රශ්නය අනිවාර්ය නොවේ.)



අවර්තික වගුව

1	1 H																		2 He	
2	3 Li	4 Be									5 B	6 C	7 N	8 O	9 F	10 Ne				
3	11 Na	12 Mg									13 Al	14 Si	15 P	16 S	17 Cl	18 Ar				
4	19 K	20 Ca	21 Sc	22 Ti	23 V	24 Cr	25 Mn	26 Fe	27 Co	28 Ni	29 Cu	30 Zn	31 Ga	32 Ge	33 As	34 Se	35 Br	36 Kr		
5	37 Rb	38 Sr	39 Y	40 Zr	41 Nb	42 Mo	43 Tc	44 Ru	45 Rh	46 Pd	47 Ag	48 Cd	49 In	50 Sn	51 Sb	52 Te	53 I	54 Xe		
6	55 Cs	56 Ba		72 Hf	73 Ta	74 W	75 Re	76 Os	77 Ir	78 Pt	79 Au	80 Hg	81 Tl	82 Pb	83 Bi	84 Po	85 At	86 Rn		
7	87 Fr	88 Ra		104 Rf	105 Db	106 Sg	107 Bh	108 Hs	109 Mt	110 Ds	111 Rg	112 Cn	113 Uut	114 Uuq	115 Uup	116 Uuh	117 Uus	118 Uuo		
				57 La	58 Ce	59 Pr	60 Nd	61 Pm	62 Sm	63 Eu	64 Gd	65 Tb	66 Dy	67 Ho	68 Er	69 Tm	70 Yb	71 Lu		
				89 Ac	90 Th	91 Pa	92 U	93 Np	94 Pu	95 Am	96 Cm	97 Bk	98 Cf	99 Es	100 Fm	101 Md	102 No	103 Lr		