

A කොටස - ව්‍යුහගත රචනා

මෙම කිරයේ කිසිවක් නො ලියන්න.

ප්‍රශ්න හතරට ම මෙම පත්‍රයේ ම පිළිතුරු සපයන්න. (එක් එක් ප්‍රශ්නය සඳහා නියමිත ලකුණු ප්‍රමාණය 100 කි.)

1.

(a)

(i)

I. ලුච්ස් ව්‍යුහයක ඇති පරමාණුවක ආරෝපණය (**Q**) නිර්ණය කිරීමට පහත දක්වා ඇති ප්‍රකාශනය N_A, N_{LP} සහ N_{BP} යන පද සුදුසු කොටු වල ඇතුළත් කිරීමෙන් සම්පූර්ණ කරන්න. මෙහි,

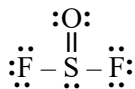
N_A = පරමාණුවේ ඇති සංයුජතා ඉලෙක්ට්‍රෝන සංඛ්‍යාව

N_{LP} = එකසර ඉලෙක්ට්‍රෝන යුගලවල ඇති ඉලෙක්ට්‍රෝන සංඛ්‍යාව

N_{BP} = පරමාණුව වටා බන්ධන යුගලවල ඇති ඉලෙක්ට්‍රෝන සංඛ්‍යාව

$$Q = \boxed{} - \boxed{} - \frac{1}{2} \boxed{}$$

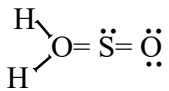
II. N_A, N_{LP} සහ N_{BP} සඳහා අගයයන් සුදුසු කොටු වල ඇතුළත් කිරීමෙන් පහත දී ඇති SOF_2 ව්‍යුහයෙහි S මත ආරෝපණය, Q(සල්ෆර්), ගණනය කරන්න.



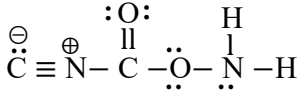
$$Q(\text{සල්ෆර්}) = \boxed{} - \boxed{} - \frac{1}{2} \boxed{} = \dots\dots\dots$$

(ii) $ClO_2F_2^+$ අයනය සඳහා වඩාත් ම පිළිගත හැකි ලුච්ස් ව්‍යුහය අඳින්න.

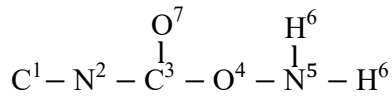
(iii) CH_2SO (සල්ෆික්) අණුව සඳහා වඩාත් ම ස්ථායී ලුච්ස් ව්‍යුහය පහත දක්වා ඇත. මෙම අණුව සඳහා තවත් ලුච්ස් ව්‍යුහ (සම්ප්‍රසුක්ත ව්‍යුහ) දෙකක් අඳින්න.



(iv) පහත සඳහන් උපකල්පිත ලුච්ස් ව්‍යුහය පදනම් කරගෙන පහත වගුවේ දක්වා ඇති C, N සහ O පරමාණුවල
 I. පරමාණුව වටා VSEPR යුගල්
 II. පරමාණුව වටා ඉලෙක්ට්‍රෝන යුගල් ජ්‍යාමිතිය
 III. පරමාණුව වටා හැඩය
 V. පරමාණුවේ මුහුම්කරණය සඳහන් කරන්න.



පහත දැක්වෙන පරිදි පරමාණු අංකනය කර ඇත.



	N ²	C ³	O ⁴	N ⁵
I. VSEPR යුගල				
II. ඉලෙක්ට්‍රෝන යුගල ජ්‍යාමිතිය				
III. හැඩය				
IV. මුහුම්කරණය				

(v) ඉහත (iv) කොටසෙහි දෙන ලද ලුච්ස් ව්‍යුහයෙහි පහත සඳහන් ෮ බන්ධන සෑදීමට සහභාගි වන පරමාණුක / මුහුම්කාක්ෂික හඳුනාගන්න. (පරමාණු වල අංකනය (iv) කොටසෙහි ආකාරයට වේ.)

- | | | |
|-------------------------------------|----------------------|----------------------|
| I. N ² -C ³ | N ² | C ³ |
| II. O ⁴ -N ⁵ | O ⁴ | N ⁵ |
| III. N ⁵ -H ⁶ | N ⁵ | H ⁶ |
| IV. C ³ -O ⁷ | C ³ | O ⁷ |

(ලකුණු 55 යි.)

(b)

(i) පරමාණුවක ප්‍රධාන ක්වොන්ටම් අංකය n = 3 වන ශක්ති මට්ටම සඳහා උපකවච(පරමාණුක කාක්ෂික) ඒවායේ උද්දිගංශ ක්වොන්ටම් අංකය (l) සහ චුම්බක ක්වොන්ටම් අංකය/ අංක (m_l) සමග හඳුනාගන්න. එක් එක් උපකවචයෙහි පවතින උපරිම ඉලෙක්ට්‍රෝන සංඛ්‍යාව කුමක්ද?

ඔබගේ පිළිතුර පහත දී ඇති වගුවේ ලියන්න.

උපකවචය	උද්දිගංශ ක්වොන්ටම් අංකය(l)	චුම්බක ක්වොන්ටම් අංකය / අංක (m _l)	එක් එක් උපකවචයේ පවතින උපරිම ඉලෙක්ට්‍රෝන සංඛ්‍යාව
.....
.....
.....

(ii) පහත සඳහන් I, II හා III හි පවතින අන්තර් අණුක බල වර්ගය / වර්ග හඳුනාගන්න.

- I. Ar වායුව
.....
- II. NO වායුව
.....
- III. KCl කුඩා ප්‍රමාණයක් ද්‍රාවණය වී ඇති ජල සාම්පලයක
.....

(iii) “n-බියුටේන් (C₄H₁₀) හි තාපාංකය ප්‍රොපේන් (C₃H₈) හි තාපාංකයට වඩා ඉහළය.” මෙම ප්‍රකාශනය සත්‍ය නැතහොත් අසත්‍ය ද යන වග හේතු සහිත ව සඳහන් කරන්න.

.....
.....
.....

(iv) වරහන් තුළ දී ඇති ගුණය අඩු වන පිළිවෙලට පහත සඳහන් දෑ සකසන්න. (හේතු අවශ්‍ය නොවේ.)

I. Li₂CO₃, Na₂CO₃, K₂CO₃(ජලයෙහි ද්‍රාව්‍යතාව)

..... > >

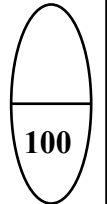
II. NF₃, NH₃, NOCl, NO₂⁺ (බන්ධන කෝණය)

..... > > >

III. COCl₂, CO₂, HCN, CH₃Cl (කාබන්වල විද්‍යුත් සාණතාව)

..... > > >

(ලකුණු 45 යි.)



2.

(a) X, Y සහ Z යනු ආවර්තිතා වගුවේ එකම කාණ්ඩයට අයත් මූලද්‍රව්‍ය වේ. කාණ්ඩයේ පහළට යෑමේ දී ඒවා පිළිවෙලින් අනුගාමී ආවර්ත තුනක පවතී. කාමර උෂ්ණත්වයේ දී Y අලෝහමය වර්ණවත් ද්‍රවයක් ලෙස පවතී.

(i) X, Y සහ Z හඳුනාගන්න. (පරමාණුක සංකේත දෙන්න.)

X = Y = Z =

(ii) X, Y සහ Z සම්බන්ධයෙන් පහත දැනී සාපේක්ෂ විශාලත්වය දක්වන්න.

I. පරමාණුක විශාලත්වය > >

II. ඉලෙක්ට්‍රෝන බන්ධුතාවය > >

III. පළමු අයනීකරණ ශක්තිය > >

(iii) X, Y සහ Z හි ඇනායනයන්හි ජලීය ද්‍රාවණ වෙන වෙනම පරීක්ෂා නළවල ඔබට සපයා ඇත. මෙම ඇනායන හඳුනාගැනීම සඳහා භාවිත කළ හැකි තනි ප්‍රතිකාරකයක් යෝජනා කරන්න. (සැ.යු : එක් එක් ඇනායනය සඳහා නිරීක්ෂණය ඔබ සඳහන් කළ යුතුයි.)

ප්‍රතිකාරකය:
නිරීක්ෂණය : X:
(ඇනායනය සඳහා) Y:
Z:

(iv) පහත දෑ සමග X₂(g) හි ප්‍රතික්‍රියා සඳහා තුලිත රසායනික සමීකරණ දෙන්න.

I. NH₃(g)
II. තනුක NaOH

(v) X හි ඔක්සො අම්ල දෙකක ව්‍යුහ අඳින්න.

(vi) X හි එක් ස්වාභාවික ප්‍රභවයක් නම් කරන්න.

(vii)

I. X හි අඩංගු ඒකඅවයවයක් ජල නළ නිෂ්පාදනයේදී බහුලව භාවිත කරන ආකලන බහුඅවයවකයක් සාදයි. ඒකඅවයවකයේ ව්‍යුහය අඳින්න.

II. එම බහුඅවයවකයේ සම්පූර්ණ නම ලියන්න.

(ලකුණු 50 යි.)

(b) Q ජලීය ද්‍රාවණයෙහි ඇනායන තුනක් අඩංගු වේ. මෙම ඇනායන හඳුනාගැනීම සඳහා පහත පරීක්ෂා සිදු කරන ලදී.

(1 සිට 5 දක්වා එක් එක් පරීක්ෂාව සඳහා Q ද්‍රාවණයෙන් අලුත් කොටසක් භාවිත කරන ලදී.)

	පරීක්ෂාව	නිරීක්ෂණය
①	I තනුක HCl එකතු කරන ලදී.	අවර්ණ වායුවක් පිට විය. පැහැදිලි ද්‍රාවණයක් ලැබුණි.
	පිටවූ වායුව ලෙඩ් ඇසිට්ට්වලින් තෙත් කරන ලද පෙරහන් කඩදාසියක් මඟින් පරීක්ෂා කරන ලදී.	වර්ණ විපර්යාසයක් නොමැත.
	II සුදු අවක්ෂේපය පෙරා වෙන් කර එයට තනුක HCl එක් කරන ලදී.	වායුවක් පිට වෙමින් සුදු අවක්ෂේපය ද්‍රාවණය වුණි.
②	I BaCl ₂ ද්‍රාවණයක් එකතු කරන ලදී.	සුදු අවක්ෂේපයක් ලැබුණි.
	II සුදු අවක්ෂේපය පෙරා වෙන් කර එයට තනුක HCl එක් කරන ලදී.	වායුවක් පිට වෙමින් සුදු අවක්ෂේපය ද්‍රාවණය වුණි.
	III පිටවුණු වායුව ආම්ලිකතා පොටෑසියම් ඩයික්‍රෝමේට්වලින් තෙත් කරන ලද පෙරහන් කඩදාසියක් මඟින් පරීක්ෂා කරන ලදී.	තැඹිලි පැහැයේ සිට කොළ පැහැයට වර්ණය වෙනස් වුණි.
③	සාන්ද්‍ර HNO ₃ හා ඇමෝනියම් මොලිබ්ඩේට් ද්‍රාවණයකින් වැඩිපුර ප්‍රමාණයක් එක් කර මිශ්‍රණය උණුසුම් කරන ලදී.	කහ පැහැති අවක්ෂේපයක් නොසෑදුණි.
④	ඩෙවර්ඩා මිශ්‍ර ලෝහය සහ NaOH ද්‍රාවණයක් එක් කර මිශ්‍රණය රත් කරන ලදී.	නෙස්ලර් ප්‍රතිකාරකය දුඹුරු පැහැ ගන්වන වායුවක් පිටවුණි.
⑤	FeCl ₃ ද්‍රාවණයක් එකතු කරන ලදී.	ලේ රතු පැහැති ද්‍රාවණයක් ලැබුණි.

(b) පරීක්ෂණයක දී MX(s) නම් අවක්ෂේපයකට 1.00mol dm^{-3} HNO₃ සීමිත පරිමාවක් එකතු කර 25⁰C දී පද්ධතිය සමතුලිතතාවයට එළඹීමට ඉඩ හරින ලදී. මෙවිට අවක්ෂේපය අර්ධ වශයෙන් දිය වී පැහැදිලි ද්‍රාවණයක් ලබා දුනි. සැදුණු HX(aq) දුබල අම්ලයක් ලෙස ක්‍රියා කරයි.

(i) ඉහත ද්‍රාවණයෙහි පවතින සමතුලිතතා සඳහා රසායනික ප්‍රතික්‍රියා ලියන්න.

.....
.....
.....
.....
.....

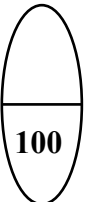
(ii) HX(aq) හි විසඳනය නොසැලකිය හැකි බව උපකල්පනය කරමින් ඉහත ද්‍රාවණයෙහි ඇති [X⁻_(aq)] ගණනය කරන්න. (25⁰C දී MX හි ද්‍රාව්‍යතා ගුණිතය, $K_{sp}(MX) = 3.6 \times 10^{-7} \text{mol}^2 \text{dm}^{-6}$)

.....
.....
.....
.....
.....

(iii) 25⁰C MX හි සංතෘප්ත ජලීය ද්‍රාවණයක ඇති [X⁻_(aq)] ඉහත (b)(ii) හි ලබා ගත් අගයට සමාන ද කුඩාද විශාල ද යන වග හේතු දක්වමින් පහදන්න.

.....
.....
.....
.....
.....

(ලකුණු 50 යි.)



4.


(a) C₅H₁₂O අණුක සූත්‍රය සහිත A, B, C සහ D යන ඇල්කොහොල එකිනෙකෙහි ව්‍යුහ සමාවයවික වේ. A, B සහ C ප්‍රකාශ සමාවයවිකතාවය පෙන්වයි.

(i) A, B සහ C සඳහා තිබිය හැකි ව්‍යුහ අඳින්න.

[Three empty rectangular boxes for drawing structures]

B, C සහ D ආම්ලික K₂Cr₂O₇ සමග ප්‍රතික්‍රියා කළ විට පිළිවෙළින් X, Y සහ Z සෑදේ. X, Y සහ Z යන එල NaBH₄ සමග ප්‍රතික්‍රියා කිරීමෙන් පිළිවෙළින් B, C සහ D බවට නැවත පරිවර්තනය කළ හැක.


(ii) A හි ව්‍යුහය කුමක්ද?




A

සාන්ද්‍ර H_2SO_4 සමඟ රත් කළ විට A හා B පිළිවෙළින් E හා F ලබා දුන් අතර C හා D, එකම G නමැති ඵලය ලබා දුනි. G පාරත්‍රිමාන සමාවයවිකතාවය පෙන්වයි. E, F සහ G යන සංයෝග තුනටම C_5H_{10} අණුක සූත්‍රය ඇත. E සහ F, HBr සමඟ ප්‍රතික්‍රියා කළ විට එකම H නමැති ඵලය සෑදුණි.

(iii) B, C, D, E, F සහ H හි ව්‍යුහ අඳින්න.



B



C



D



E



F



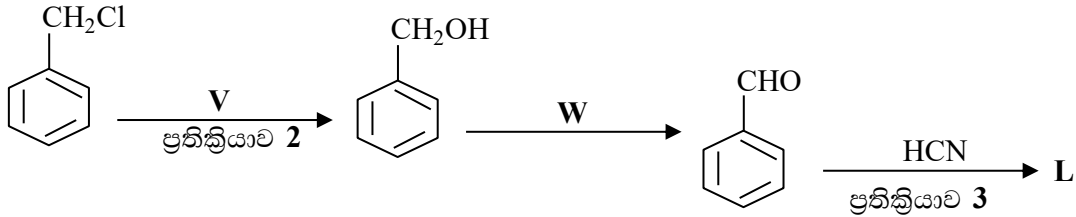
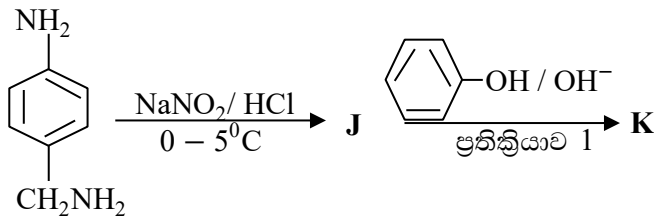
H

(iv) G හි පාරත්‍රිමාන සමාවයවිකවල ව්‍යුහ අඳින්න.



(ලකුණු 48 යි.)

(b) පහත දී ඇති ප්‍රතික්‍රියා අනුක්‍රම දෙක සලකන්න.



(i) J, K සහ L හි පහත දී ඇති කොටු තුළ අඳින්න.

J	K	L

(ii) V සහ W ප්‍රතිකාරක පහත දී ඇති කොටු තුළ ලියන්න.

V = W =

(iii) A_E, A_N, S_E, S_N හෝ E ලෙස අදාළ කොටුවෙහි ලියා 1, 2 සහ 3 යන එක් එක් ප්‍රතික්‍රියාව ඉලෙක්ට්‍රෝෆිලික ආකලන (A_E), නියුක්ලියෝෆිලික ආකලන (A_N), ඉලෙක්ට්‍රෝෆිලික ආදේශ (S_E) නියුක්ලියෝෆිලික ආදේශ (S_N) හෝ ඉවත් වීම (E) ලෙස වර්ගීකරණය කරන්න.

ප්‍රතික්‍රියාව 1
 ප්‍රතික්‍රියාව 2
 ප්‍රතික්‍රියාව 3

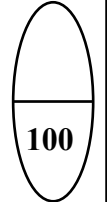
(ලකුණු 40 යි.)

(c)

(i) $\text{CH}_3\text{CH}=\text{CH}_2$ සහ HBr අතර සිදුවන ප්‍රතික්‍රියාවෙහි ප්‍රධාන ඵලයෙහි ව්‍යුහය කුමක්ද?

(ii) ඉහත සඳහන් කළ ප්‍රතික්‍රියාවෙහි යාන්ත්‍රණය ලියන්න.

(ලකුණු 12 යි)



HCl අම්ල ද්‍රාවණයෙහි නියත පීඩනයේ දී විශිෂ්ට තාප ධාරිතාව හා ඝනත්වය පිළිවෙලින් $4.0 \text{ J g}^{-1} \text{ K}^{-1}$ හා 1.0 g cm^{-3} වේ. ඉහත පියවර දෙකෙහි දී ඝනත්ව එකතු කළ පසු ද්‍රාවණයන්හි පරිමා සහ ඝනත්ව වෙනස නොසැලකිය හැකි බව උපකල්පනය කරන්න.

- (i) ඉහත I හා II පියවරවල දී ඇති ප්‍රතික්‍රියාවන්හි එන්තැල්පි විපර්යාසයන් (kJ mol^{-1}) වලින් ගණනය කරන්න.
- (ii) ඉහත (i) හි ලබා ගත් අගයයන් හා තාප රසායනික චක්‍රයන් භාවිතයෙන්,
 $2\text{NaHCO}_3(\text{s}) \rightarrow \text{Na}_2\text{CO}_3(\text{s}) + \text{H}_2\text{O}(\text{l}) + \text{CO}_2(\text{g})$ ප්‍රතික්‍රියාවේ ΔH^0 ගණනය කරන්න.
- (iii) ප්‍රතික්‍රියාවක තාප විපර්යාසය, කුමන තත්වය යටතේ දී එහි එන්තැල්පි වෙනසට සමාන වේ දැයි සඳහන් කරන්න.
- (iv) ඉහත පරීක්ෂණාත්මක ක්‍රියාපිළිවෙලෙහි දෝෂ ප්‍රභව දෙකක් හඳුනාගන්න.

(ලකුණු 75 යි.)

6.

(a)

- (i) ප්‍රතික්‍රියකයන්හි සාන්ද්‍රණ වැඩි කළ විට ප්‍රතික්‍රියාවක ශීඝ්‍රතාව වැඩි වන්නේ මන් දැයි පැහැදිලි කරන්න.
- (ii) සාමාන්‍යයෙන් ප්‍රතික්‍රියාවක ශීඝ්‍රතාව උෂ්ණත්වය වැඩි වීමත් සමග වැඩි වන්නේ මන් දැයි පැහැදිලි කිරීමට හේතු දෙකක් දක්වන්න.
- (iii) මූලික ප්‍රතික්‍රියාවක පෙළ හා අණුකතාවය අතර සම්බන්ධය කුමක්ද?
- (iv) $\text{NO} + \text{O}_2 \rightarrow \text{NO}_2 + \text{O}$ යන මූලික ප්‍රතික්‍රියාවෙහි සක්‍රීය සංකීර්ණයෙහි ව්‍යුහයෙහි දළ සටහනක් අඳින්න. සෑදෙමින් පවතින බන්ධන “සෑදෙන” හා කැඩෙමින් පවතින / බන්ධන “කැඩෙන” ලෙස නම් කරන්න.
- (v) ශීඝ්‍රතා නියතය k, හා ස්ටොයිකියෝමිතික සංගුණක x, y, z වන $x\text{A} + y\text{B} \rightarrow z\text{C}$ යන මූලික ප්‍රතික්‍රියාව සඳහා ශීඝ්‍රතා ප්‍රකාශනය ලියන්න.

(ලකුණු 50 යි.)

(b) $x\text{A} + y\text{B} \rightarrow z\text{C}$ යන ප්‍රතික්‍රියාව කාබනික ද්‍රාවකයකින් හා ජලයෙන් සමන්විත ද්විකලාපීය පද්ධතියක් තුළ අධ්‍යයනය කරන ලදී. A සංයෝගය කලාප දෙකෙහිම ද්‍රාව්‍ය වන අතර B සහ C සංයෝගය ජලීය කලාපයෙහි පමණක් ද්‍රාව්‍ය වේ.

කලාප අතර A හි ව්‍යාප්තිය සඳහා විභාග සංගුණකය, $K_D = \frac{[A_{(org)}]}{[A_{(aq)}]} = 4.0$ වේ.

A සංයෝගය ද්විකලාපීය පද්ධතියට එකතු කර සමතුලිතතාවයට එළඹීමට ඉඩ හරින ලදී. ජලීය කලාපයට B සංයෝගය නික්මපණය (injecting) කිරීමෙන් ප්‍රතික්‍රියාව ආරම්භ කරන ලදී. පද්ධතියෙහි උෂ්ණත්වය නියත අගයක පවත්වා ගන්නා ලදී. සිදු කරන ලද පරීක්ෂණ වල ප්‍රතිඵල පහත දක්වා ඇත.

පරීක්ෂණ අංකය	කාබනික කලාපයෙහි පරිමාව (cm^3)	ජලීය කලාපයෙහි පරිමාව (cm^3)	පද්ධතියට එකතු කළ A ප්‍රමාණය (mol)	නික්මපෙන B ප්‍රමාණය (mol)	ආරම්භක ශීඝ්‍රතාව $\left[\frac{-\Delta C_A}{\Delta t} \right]$ ($\text{mol dm}^{-3} \text{s}^{-1}$)
I	—	100.00	1.00×10^{-2}	1.00×10^{-2}	1.20×10^{-5}
II	100.00	100.00	1.25×10^{-1}	1.00×10^{-2}	7.50×10^{-5}
III	50.00	50.00	6.25×10^{-2}	1.00×10^{-2}	1.50×10^{-3}

සටහන: I වන පරීක්ෂණය කාබනික කලාපය නොමැතිව සිදු කරන ලදී.

- (i) ඉහත I, II හා III පරීක්ෂණවල ජලීය කලාපයෙහි ආරම්භක A සාන්ද්‍රණය ගණනය කරන්න.
- (ii) A අනුබද්ධයෙන් ප්‍රතික්‍රියාවෙහි පෙළ සොයන්න.
- (iii) B අනුබද්ධයෙන් ප්‍රතික්‍රියාවෙහි පෙළ සොයන්න.
- (iv) ප්‍රතික්‍රියාවේ ශීඝ්‍රතා නියතය ගණනය කරන්න.
- (v) ඉහත III පරීක්ෂණයෙහි A එකතු කර සමතුලිතතාවයට එළඹීමට ඉඩ හැරීමෙන් පසු කාබනික කලාපයෙන් 10.00cm^3 පරිමාවක් ඉවත් කළේ නම්, ප්‍රතික්‍රියාවේ ආරම්භක ශීඝ්‍රතාව ගැන කුමක් ප්‍රකාශ කළ හැකිද? ඔබගේ පිළිතුරට හේතුව /හේතු දක්වන්න.

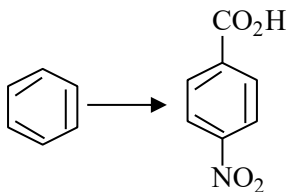
(ලකුණු 50 යි.)

(c) X හා Y ද්‍රවයන්හි මිශ්‍රණයක් පරිපූර්ණ ලෙස හැසිරේ. නියත උෂ්ණත්වයක ඇති දෘඪ සංවෘත භාජනයක් තුළ වාෂ්ප කලාපය සමග සමතුලිතව ඇති ද්‍රව කලාපයෙහි X මවුල 1.2 ක් හා Y මවුල 2.8 ඇති විට, මුළු වාෂ්ප පීඩනය $3.4 \times 10^4 \text{ Pa}$ වේ. මෙම උෂ්ණත්වයේ දී ම වාෂ්ප කලාපය සමග සමතුලිතව ඇති ද්‍රව කලාපයෙහි සංයුතිය X මවුල 1.2 හා Y මවුල 4.8 වන විට, මුළු වාෂ්ප පීඩනය $3.6 \times 10^4 \text{ Pa}$ වේ. මෙම උෂ්ණත්වයේ දී X හා Y හි සංතෘප්ත වාෂ්ප පීඩන ගණනය කරන්න.

(ලකුණු 50 යි.)

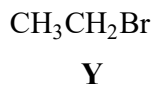
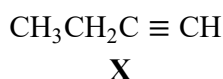
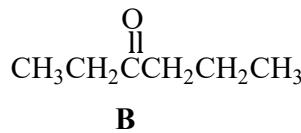
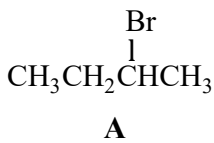
7.

(a) පහත සඳහන් පරිවර්තනය පියවර පහකට (5) නොවැඩි පියවර සංඛ්‍යාවකින් ඔබ සිදු කරන්නේ කෙසේ දැයි පෙන්වන්න.



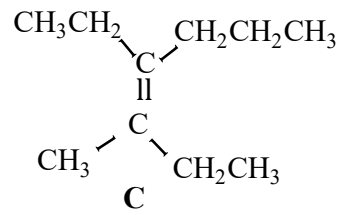
(ලකුණු 30 යි.)

(b) A හා B සංයෝග දෙක රසායනාගාරයේ දී පිළියෙළ කිරීමට අවශ්‍යව ඇත.



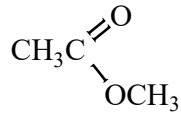
(i) අවශ්‍ය පරිදි X හා Y යොදා ගනිමින් A සහ B එකිනෙකක් පියවර පහකට (5) නොවැඩි පියවර සංඛ්‍යාවකින් ඔබ පිළියෙළ කරන්නේ කෙසේ දැයි පෙන්වන්න.

- (ii) ඉහත දී ඇති **A** හා **B** භාවිත කර පියවර පහකට (5) නොවැඩි පියවර සංඛ්‍යාවකින් **C** සංයෝගය ඔබ පිළියෙළ කරන්නේ කෙසේ දැයි පෙන්වන්න.



(ලකුණු 90 යි.)

- (c) ඇසටයිල් ක්ලෝරයිඩ් හා NaOH අතර ප්‍රතික්‍රියාවේ යන්ත්‍රණය පිළිබඳ ඔබගේ දැනුම භාවිත කරමින්



සහ NaOH අතර ප්‍රතික්‍රියාව සඳහා යන්ත්‍රණයක් යෝජනා කරන්න.

(ලකුණු 30 යි.)

C කොටස - රචනා

ප්‍රශ්න දෙකකට පමණක් පිළිතුරු සපයන්න. (එක් එක් ප්‍රශ්නයට ලකුණු 150 බැගින් ලැබේ.)

8.

(a) Y ද්‍රාවණයෙහි කැටායන තුනක් අඩංගු වේ.

(A) මෙම කැටායන හඳුනා ගැනීම සඳහා පහත පරීක්ෂා සිදු කරන ලදී.

	පරීක්ෂාව	නිරීක්ෂණය
①	Y හි කුඩා කොටසකට තනුක HCl එක් කරන ලදී.	සුදු පැහැති අවක්ෂේපයක් (P ₁)
②	P ₁ පෙරා වෙන් කර ද්‍රාවණය තුළින් H ₂ S බුබුලනය කරන ලදී.	සුදු පැහැති අවක්ෂේපයක් (P ₂)
③	P ₂ පෙරා වෙන් කරන ලදී. H ₂ S ඉවත් කිරීම සඳහා පෙරනය නටවා, සිසිල් කර, NH ₄ OH/ NH ₄ Cl එක් කරන ලදී.	අවක්ෂේපයක් නොමැත.
④	ද්‍රාවණය තුළින් H ₂ S බුබුලනය කරන ලදී.	කළු පැහැති අවක්ෂේපයක් (P ₃)

(B) P₁, P₂ සහ P₃ අවක්ෂේප සඳහා පහත පරීක්ෂා සිදු කරන ලදී.

අවක්ෂේපය	පරීක්ෂාව	නිරීක්ෂණය
P ₁	I. P ₁ ට ජලය එක් කර මිශ්‍රණය නටවන ලදී.	P ₁ හි කොටසක් ද්‍රාවණය වුණි.
	II. ඉහත I හි මිශ්‍රණය උණුසුම්ව තිබිය දී පෙරා, පෙරනය (F ₁) හා ශේෂය (R ₁) මත පහත පරීක්ෂණ සිදු කරන ලදී. පෙරනය (F₁) <ul style="list-style-type: none"> උණුසුම් F₁ ට තනුක H₂SO₄ එක් කරන ලදී. ශේෂය (R₁) උණුසුම් ජලයෙන් R₁ හොඳින් සෝදා තනුක NH₄OH එක් කරන ලදී. ඉන්පසු, KI ද්‍රාවණයක් එක් කරන ලදී. 	සුදු අවක්ෂේපයක් R ₁ ද්‍රාවණය වුණි. තද කහ පැහැති අවක්ෂේපයක්
P ₂	උණුසුම් තනුක HNO ₃ හි P ₂ ද්‍රාවණය කර පොටෑසියම් ක්‍රෝමේට් ද්‍රාවණයක් එක් කරන ලදී.	කහ පැහැති අවක්ෂේපයක්

P₃	I. උණුසුම් සාන්ද්‍ර HNO ₃ හි P ₃ ද්‍රාවණය කරන ලදී.	රෝස පැහැති ද්‍රාවණයක් (1 ද්‍රාවණය)
	II. ඉහත I ද්‍රාවණයට පහත දෑ එකතු කරන ලදී. • සාන්ද්‍ර HCl • තනුක NH ₄ OH	නිල් පැහැති ද්‍රාවණයක් (2 ද්‍රාවණය) කහ- දුඹුරු පැහැති ද්‍රාවණයක් (3 ද්‍රාවණය)

- (i) කැටයන තුන හඳුනාගන්න. (හේතු අවශ්‍ය නැත.)
- (ii)
 - I. P₁, P₂ හා P₃ අවක්ෂේප
 - II. 1, 2 හා 3 ද්‍රාවණවල වර්ණයන්ට හේතුවන විශේෂයන් හඳුනාගන්න. (සැ. යු: රසායනික සූත්‍ර පමණක් ලියන්න.)
- (iii) ඉහත (A) 4 හි අවක්ෂේප වන කැටයනය/ කැටයන ආම්ලික මාධ්‍යයේදී අවක්ෂේප නොවන්නේ මන් දැයි කෙටියෙන් පැහැදිලි කරන්න.

(ලකුණු 75 යි.)

(b) සහ සාම්පලයක (NH₄)₂SO₄, NH₄NO₃ සහ ප්‍රතික්‍රියාශීලී නොවන ද්‍රව්‍ය අඩංගු බව සොයා ගන්නා ලදී. මෙම සාම්පලයේ අමෝනියම් ලවණ ප්‍රමාණය නිර්ණය කිරීම සඳහා පහත දක්වා ඇති ක්‍රියාපිළිවෙළ යොදා ගන්නා ලදී. සහ සාම්පලයෙන් 1.00g කොටසක් ජලයේ ද්‍රාවණය කර 250.00cm³ දක්වා පරිමාමිතික ප්ලාස්ටික් තුළ තනුක කරන ලදී. (මින් පසුව S ද්‍රාවණය ලෙස හැඳින්වේ.)

ක්‍රියාපිළිවෙළ 1

S ද්‍රාවණයෙන් 50.00cm³ කොටසක් ප්‍රබල ක්ෂාරයක (NaOH) වැඩිපුර ප්‍රමාණයක් සමග පිරියම් කර නිදහස් වූ වායුව 0.10moldm⁻³ HCl 30.00cm³ තුළට යවන ලදී. ඉතිරිව ඇති HCl උදාසීන කිරීමට (රිනොජේන් දර්ශකය ලෙස යොදා ගනිමින්) අවශ්‍ය වූ 0.10moldm⁻³ NaOH පරිමාව 10.20cm³ විය.

ක්‍රියාපිළිවෙළ 2

S ද්‍රාවණයෙන් 25.00cm³ කොටසකට Al කුඩු ද ඉන්පසු ප්‍රබල ක්ෂාරයක වැඩිපුර ප්‍රමාණයක් ද එකතු කර මිශ්‍රණය රත් කරන ලදී. නිදහස් වූ වායුව 0.10moldm⁻³ HCl 30.00 cm³ තුළට යවන ලදී. ඉතිරිව ඇති HCl උදාසීන කිරීමට (රිනොජේන් දර්ශකය ලෙස යොදා ගනිමින්) අවශ්‍ය වූ 0.10moldm⁻³ NaOH පරිමාව 15.00cm³ විය.

(සැ. යු: ලිට්මස් කඩදාසි භාවිත කරමින් 1 සහ 2 ක්‍රියාපිළිවෙළෙහි වායු පිටවීම සම්පූර්ණ දැයි පරීක්ෂා කරන ලදී.)

- (i) ක්‍රියාපිළිවෙළ 1 හි නිදහස් වූ වායුව හඳුනාගන්න.
- (ii) ක්‍රියාපිළිවෙළ 2 හි නිදහස් වූ වායුව හඳුනාගන්න.
- (iii) ක්‍රියාපිළිවෙළ 1 සහ 2 හි දී සිදු වන ප්‍රතික්‍රියා සඳහා තුලිත රසායනික සමීකරණ ලියන්න.
- (iv) සහ සාම්පලයේ ඇති (NH₄)₂SO₄ සහ NH₄NO₃ යන එක් එක් සංයෝගයෙහි ස්කන්ධ ප්‍රතිශතය ගණනය කරන්න.
(H = 1, N = 14, O = 16, S = 32)

(ලකුණු 75 යි.)

9.

(a) පහත දක්වා ඇති කාර්මික ක්‍රියාවලි සලකන්න.

- I. විරංජන කුඩු නිෂ්පාදනය
- II. කැල්සියම් කාබයිඩ් නිෂ්පාදනය
- III. යූරියා නිෂ්පාදනය
- IV. සල්ෆියුරික් අම්ල නිෂ්පාදනය (ස්පර්ශ ක්‍රමය)

- (i) එක් එක් ක්‍රියාවලියෙහි දී භාවිත කරන ආරම්භක ද්‍රව්‍ය සඳහන් කරන්න.
- (ii) අවශ්‍ය තැන්වල දී සුදුසු තත්ත්ව සඳහන් කරමින් එක් එක් ක්‍රියාවලියේ දී සිදු වන ප්‍රතික්‍රියා සඳහා තුලිත රසායනික සමීකරණ ලියන්න.
- (iii) පහත එක් එක් දෑ සඳහා ප්‍රයෝජන දෙක බැගින් සඳහන් කරන්න.
විරංජන කුඩු, කැල්සියම් කාබයිඩ්, යූරියා හා සල්ෆියුරික් අම්ලය

(ලකුණු 75 යි.)

(b) ඕසෝන් වියන භායනය (OLD), ගෝලීය උණුසුම (GW) හා අම්ල වැසි (AR) වර්තමානයේ දී අප මුහුණ දෙන ප්‍රධාන පාරිසරික ගැටලු වේ. පහත දැක්වෙන ප්‍රශ්න පරිසරය හා ඉහත දැක්වෙන ගැටලු හා සම්බන්ධ ය.

- (i) කාබන් හා නයිට්‍රජන් වක්‍ර පරිසරයේ ක්‍රියාත්මක වන වැදගත් රසායනික වක්‍ර 2 කි.
 - I. කාබන් වක්‍රය සම්බන්ධයෙන් පහත එක් එක් දැති කාබන් පවතින ප්‍රධාන ආකාර එක බැගින් සඳහන් කරන්න.
වායුගෝලයේ, ශාකවල, ජලයෙහි, පෘථිවි කබොලේ
 - II. නයිට්‍රජන් වක්‍රයෙහි වායු ගෝලයේ ඇති N₂ වායුව ඉවත් වීම සහ ප්‍රතිපූර්ණ වීම සිදු වන්නේ කෙසේ දැයි කෙටියෙන් සඳහන් කරන්න.
 - III. කාබන් වක්‍රයෙහි ක්ෂුද්‍ර ජීවීන් සහභාගී වන ආකාර දෙකක් සඳහන් කරන්න.
- (ii) අම්ල වැසි ඇති වීමට දායක වන වායුගෝලයේ පවතින නයිට්‍රජන් අඩංගු ප්‍රධාන සංයෝග දෙක හඳුනාගන්න.
තුලිත රසායනික සමීකරණ ආධාරයෙන් මෙම සංයෝග වැසි ජලය ආම්ලික කරන්නේ කෙසේ දැයි පෙන්වන්න.

- (iii) ඉහත සඳහන් එක් එක් පාරිසරික ගැටලුවට (OLD , GW, AR) දායක වන කාර්මික ක්‍රියාවලි දෙක බැගින් හඳුනාගන්න. මෙම එක් එක් කාර්මික ක්‍රියාවලිය මගින් වායුගෝලයට මුදාහැරෙන එක් රසායනික සංයෝගයක් බැගින් හඳුනාගන්න.
- (iv) ජලයට හා පසට නයිට්‍රජන් සංයෝග එකතු වීමට සැලකිය යුතු අන්දමින් දායක වන ප්‍රධාන කාර්මික ක්‍රියාවලිය හඳුනාගන්න. මෙම සංයෝග ජලයට හා පසට ඇතුල් වන මාර්ග සම්බන්ධව අදහස් දක්වන්න.
- (v) මීතොටමුල්ල සිද්ධිය වැනි අක්‍රමවත්ව නාගරික ඝන අපද්‍රව්‍ය බැහැර කිරීම ඉහත සඳහන් පාරිසරික ප්‍රශ්න තුනෙන් එකකට සැලකිය යුතු දායකත්වයක් දක්වයි. එම පාරිසරික ප්‍රශ්නය හඳුනාගෙන අක්‍රමවත් ලෙස නාගරික ඝන අපද්‍රව්‍ය බැහැර කිරීම අදාළ පාරිසරික ප්‍රශ්නයට දායක වන්නේ කෙසේ දැයි කෙටියෙන් සඳහන් කරන්න.

(ලකුණු 75 යි.)

10.

(a)

(i) $TiCl_3$ යනු ලා දම් පැහැති ස්කන්ධයකි. ජලයෙහි දී **A** හා **B** නම් $TiCl_3$ හි සජලනය වූ විශේෂ දෙකක් සැදෙයි. **A** සහ **B** යනු H_2O හා Cl^- ලිගන්ද අඩංගු අජටකලීය ජ්‍යාමිතියක් සහිත ටයිටේනියම්හි සංගත සංයෝග වේ. **A** හා **B** වෙන් කර ඒවායෙහි පරමාණුක සංයුති නිර්ණය කරන ලදී. පහත සඳහන් ක්‍රියාපිළිවෙළ භාවිත කර තවදුරටත් විශ්ලේෂණය කරන ලදී.

A හි විශ්ලේෂණය

A හි 0.20mol dm^{-3} ද්‍රාවණයකින් 50.00cm^3 ට වැඩිපුර $AgNO_3(aq)$ එක් කළ විට තනුක ඇමෝනියා හි ද්‍රාව්‍ය සුදු අවක්ෂේපයක් ලැබුණි. අවක්ෂේපය සෝදා, උදුනක වේලු විට (නියත ස්කන්ධයක් ලැබෙන තුරු) ලැබුණු ස්කන්ධය 4.305 g විය.

B හි විශ්ලේෂණය

B හි 0.30mol dm^{-3} ද්‍රාවණයකින් 50.00cm^3 ට වැඩිපුර $AgNO_3(aq)$ එක් කළ විට **A** හි විශ්ලේෂණයේ දී ලැබුණු සුදු අවක්ෂේපයට ලැබුණි. අවක්ෂේපය සෝදා උදුනක වේලු විට (නියත ස්කන්ධයක් ලැබෙන තුරු) ලැබුණු ස්කන්ධය ද 4.305 g විය.

($H = 1, O = 16, Cl = 35.5, Ti = 48, Ag = 108$)

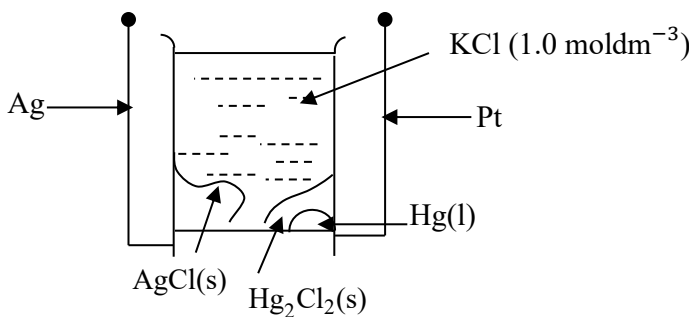
- I. **A** හා **B** හි දී ටයිටේනියම් හි ඉලෙක්ට්‍රෝන වින්‍යාසය ලියන්න.
- II. **A** හා **B** හි ව්‍යුහ අපෝහනය කරන්න.
- III. **A** හා **B** හි IUPAC නම් දෙන්න.

(iv) **X, Y** හා **Z** යනු **M(II)** ලෝහ අයනයෙහි සංගත සංයෝග වේ. ඒවාට තලීය සමවතරප්‍රාකාර ජ්‍යාමිතියක් ඇත. **X** උදාසීන සංයෝගයකි. **Y** හි ජලීය ද්‍රාවණයකට $BaCl_2(aq)$ එක් කළ විට තනුක අම්ලවල අද්‍රාව්‍ය සුදු පැහැති අවක්ෂේපයක් ලැබේ. ජලීය ද්‍රාවණයේ දී **Z** අයන තුනක් ලබා දෙයි. පහත දී ඇති ලැයිස්තුවෙන් සුදුසු විශේෂ තෝරා ගනිමින් **X, Y** හා **Z** ව්‍යුහ සූත්‍ර ලියන්න.

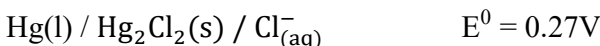
$K^+, NH_3, CN^-, SO_4^{2-}$

(ලකුණු 75 යි.)

(b)



ඉහත රූප සටහනේ පෙන්වා ඇති පරිදි විද්‍යුත් රසායනික කෝෂයක් සාදා ඇත. පහත දත්ත සපයා ඇත.



- (i) ඉහත කෝෂයෙහි ඔක්සිහරණ අර්ධ ප්‍රතික්‍රියාව ලියන්න.
- (ii) ඉහත කෝෂයෙහි ඔක්සිකරණ අර්ධ ප්‍රතික්‍රියාව ලියන්න.
- (iii) කෝෂ ප්‍රතික්‍රියාව ගොඩනගන්න.
- (iv) දී ඇති E^0 අගයයන් භාවිතයෙන් කෝෂයෙහි විද්‍යුත් ගාමක බලය ගණනය කරන්න.
- (v) ඉහත විද්‍යුත් රසායනික කෝෂයෙහි සම්මත ලිඛිත නිරූපණය දෙන්න.
- (vi) ඉහත විද්‍යුත් රසායනික කෝෂයෙහි විද්‍යුත් ගාමක බලය ක්ලෝරයිඩ අයන සාන්ද්‍රණය මත රඳාපවතී ද? ඔබගේ පිළිතුර සඳහා හේතුව / හේතු දක්වන්න.

- (vii) කෝෂයෙන් 0.10A වූ ධාරාවක් විනාඩි 60 ක කාලයක් තුළ දී ලබා ගත් විට $Ag(s) + AgCl(s)$ ස්කන්ධයෙහි සිදු වූ වෙනස ගණනය කරන්න.
- (viii) ඉහත (vii) හි ධාරාව ලබා ගත් පසු ද්‍රාවණයෙහි ක්ලෝරයිඩ අයන සාන්ද්‍රණය කුමක් විය හැකි ද? (ෆැරඩේ නියතය, $F = 96\,500\text{Cmol}^{-1}$, $Cl = 35.5$, $Ag = 108$)

(ලකුණු 75 යි.)

අවර්තිකා වගුව

1	1 H																2 He	
2	3 Li	4 Be										5 B	6 C	7 N	8 O	9 F	10 Ne	
3	11 Na	12 Mg										13 Al	14 Si	15 P	16 S	17 Cl	18 Ar	
4	19 K	20 Ca	21 Sc	22 Ti	23 V	24 Cr	25 Mn	26 Fe	27 Co	28 Ni	29 Cu	30 Zn	31 Ga	32 Ge	33 As	34 Se	35 Br	36 Kr
5	37 Rb	38 Sr	39 Y	40 Zr	41 Nb	42 Mo	43 Tc	44 Ru	45 Rh	46 Pd	47 Ag	48 Cd	49 In	50 Sn	51 Sb	52 Te	53 I	54 Xe
6	55 Cs	56 Ba		72 Hf	73 Ta	74 W	75 Re	76 Os	77 Ir	78 Pt	79 Au	80 Hg	81 Tl	82 Pb	83 Bi	84 Po	85 At	86 Rn
7	87 Fr	88 Ra		104 Rf	105 Db	106 Sg	107 Bh	108 Hs	109 Mt	110 Ds	111 Rg	112 Cn	113 Uut	114 Uuq	115 Uup	116 Uuh	117 Uus	118 Uuo
				57 La	58 Ce	59 Pr	60 Nd	61 Pm	62 Sm	63 Eu	64 Gd	65 Tb	66 Dy	67 Ho	68 Er	69 Tm	70 Yb	71 Lu
				89 Ac	90 Th	91 Pa	92 U	93 Np	94 Pu	95 Am	96 Cm	97 Bk	98 Cf	99 Es	100 Fm	101 Md	102 No	103 Lr