

A කොටස - ව්‍යුහගත රචනා

ප්‍රශ්න හතරට ම මෙම පත්‍රයේ ම පිළිතුරු සපයන්න. (එක් එක් ප්‍රශ්නය සඳහා නියමිත ලකුණු ප්‍රමාණය 100 කි.)

1.

(a) ඔබට ආවර්තිතා වගුවේ p - ගොනුවේ මූලද්‍රව්‍ය කිහිපයක් අඩංගු ලැයිස්තුවක් පහත සපයා ඇත.

B	C	N	O	F	Ne
Al	Si	P	S	Cl	Ar

එම ලැයිස්තුවෙන්,

- (i) ඉහළ දැඩි බවකින් යුතු සමපරමාණුක සහසංයුජ දැලිසක් සාදන අලෝහමය මූලද්‍රව්‍යය හඳුනාගන්න.
- (ii) වඩාත් ම පුළුල් ඔක්සිකරණ අවස්ථා පරාසයක් පෙන්නුම් කරන මූලද්‍රව්‍යය හඳුනාගන්න.
- (iii) වැඩි ම පළමු අයනීකරණ ශක්තිය ඇති මූලද්‍රව්‍යය හඳුනාගන්න.
- (iv) උභයගුණී ලක්ෂණ පෙන්නුම් කරන මූලද්‍රව්‍යය හඳුනාගන්න.
- (v) වායුමය බහුරූපී ආකාර දෙකක් ඇති මූලද්‍රව්‍යය හඳුනාගන්න.
- (vi) ප්‍රභල ම ඔක්සිකාරකය ලෙස සැලකෙන මූලද්‍රව්‍යය හඳුනාගන්න.

(ලකුණු 24)

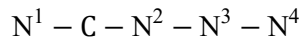
(b) පහත දී ඇති (i) සිට (v) කොටස් CN_4 අණුව මත පදනම් වේ. එහි සැකිල්ල පහත දී ඇත.



- (i) $N - N$ බන්ධන දිග ආසන්න වශයෙන් සමාන බව උපකල්පනය කරමින්, මෙම අණුව සඳහා වඩාත්ම පිළිගත හැකි ලුවීස් ව්‍යුහය අඳින්න.
- (ii) මෙම අණුව සඳහා සම්ප්‍රයුක්ත ව්‍යුහ තුනක් අඳින්න. (ඉහත (i) කොටසෙහි අඳින ලද ව්‍යුහය හැර.)

- (iii) ඉහත (i) හි අඳින ලද ලුවීස් ව්‍යුහය පදනම් කර ගෙන, පහත වගුවේ දක්වා ඇති C සහ N පරමාණුවල,
 - I. පරමාණුව වටා VSEPR යුගල්
 - II. පරමාණුව වටා ඉලෙක්ට්‍රෝන යුගල් ජ්‍යාමිතිය
 - III. පරමාණුව වටා හැඩය
 - IV. පරමාණුවේ මුහුම්කරණය
 සඳහන් කරන්න.

CN₄ හි නයිට්‍රජන් පරමාණු පහත දක්වා ඇති ලෙස අංකනය කර ඇත.



	C	N ²	N ³
I. VSEPR යුගල			
II. ඉලෙක්ට්‍රෝන යුගල ජ්‍යාමිතිය			
III. හැඩය			
IV. මුහුම්කරණය			

(iv) ඉහත (i) කොටසෙහි අදින ලද ලුවීස් ව්‍යුහයෙහි වැඩි විද්‍යුත් සෘණතාවයක් ඇත්තේ N² හෝ N³ ට දැයි සඳහන් කරන්න. ඔබේ තෝරා ගැනීමට හේතු දක්වන්න. [පරමාණුවල අංකන (iii) කොටසෙහි ආකාරයට වේ.]

.....

.....

.....

.....

(v) ඉහත (i) කොටසේ හි අදින ලද ලුවීස් ව්‍යුහයෙහි පහත සඳහන් ෮ බන්ධන සෑදීමට සහභාගි වන පරමාණුක / මුහුම් කාක්ෂික හඳුනාගන්න. [පරමාණුවල අංකන (iii) කොටසෙහි ආකාරයට වේ.]

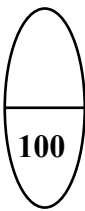
- I. N¹ - C N¹ C.....
- II. C - N² C N².....
- III. N² - N³ N²..... N³.....
- IV. N³ - N⁴ N³..... N⁴.....

(ලකුණු 56 යි)

(c) පහත දැක්වෙන ප්‍රකාශ සත්‍ය ද නැතහොත් අසත්‍ය ද යන බව සඳහන් කරන්න. (හේතු අවශ්‍ය නොවේ.)

- (i) SF₆ සහ OF₆ යන දෙකම ස්ථායී අණු වේ.
- (ii) SiCl₄, NCl₃ සහ SCl₂ හි ඉලෙක්ට්‍රෝන යුගල ජ්‍යාමිතිය වතුස්තලීය වුවද ඒවායේ බන්ධන කෝණ වෙනස් ය.
- (iii) Kr හි තාපාංකය Xe හි තාපාංකයට වඩා වැඩි ය.
- (iv) II වන කාණ්ඩයේ සල්ෆේටවල ද්‍රාව්‍යතාව කාණ්ඩයේ පහළට යන විට අඩුවන්නේ මූලික වශයෙන් කැටායනවලත් ජලීකරණ එන්තැල්පිය අඩුවන නිසා ය.

(ලකුණු 20 යි)



(vii) කාබනේටයක් වශයෙන් පවතින Y හි ස්වාභාවික ප්‍රභවයක්, විෂබීජ නාශකයක් නිෂ්පාදනයේ දී අමුද්‍රව්‍යයක් ලෙස භාවිත කෙරේ.

I. ස්වාභාවික ප්‍රභවය නම් කරන්න

II. විෂබීජ නාශකය හඳුනාගන්න.

III. විෂබීජ නාශකය නිෂ්පාදන ක්‍රියාවලියේ පියවර තුලින් රසායනික සමීකරණ පමණක් භාවිතයෙන් ලියන්න.

.....
.....
.....

(ලකුණු 50 යි)

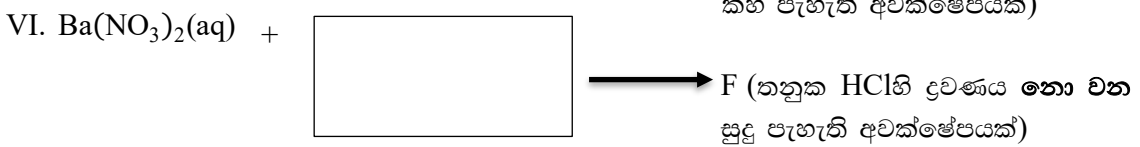
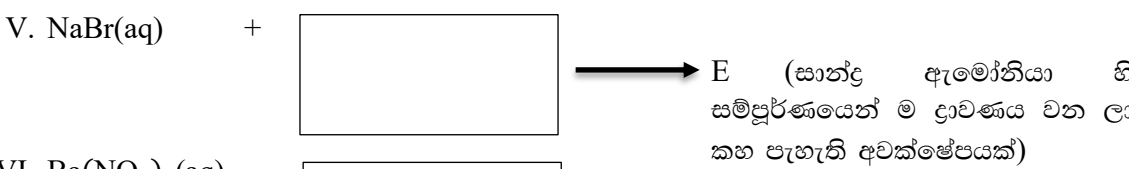
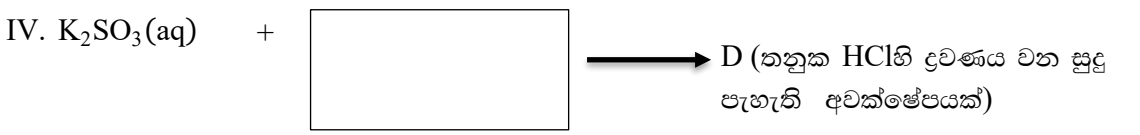
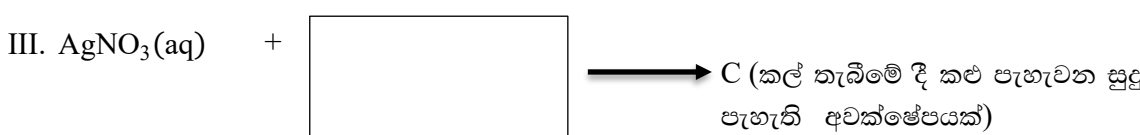
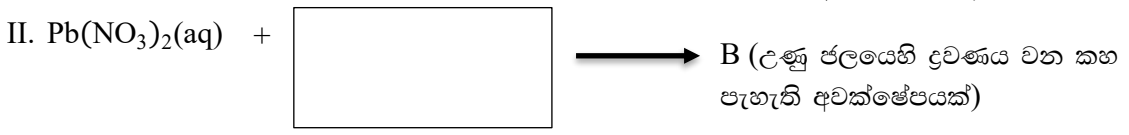
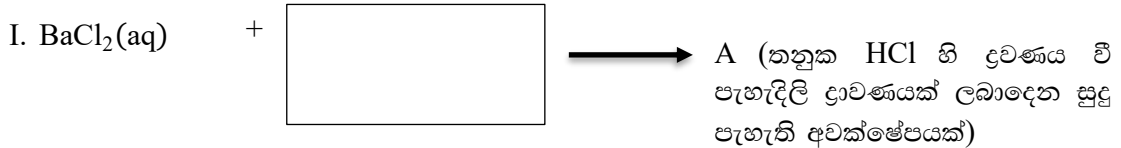
(b)

(i) දී ඇති ලැයිස්තුවෙන් සුදුසු ද්‍රාවණය තෝරා ගෙන කොටුව තුළ ලිවීමෙන්, පහත දී ඇති ප්‍රතික්‍රියා සම්පූර්ණ කරන්න.

ද්‍රාවණ ලැයිස්තුව (පිළිවෙලින් නොවේ)

$Na_2S_2O_3(aq)$, $AgNO_3(aq)$, $K_2SO_4(aq)$, $(NH_4)_2CO_3(aq)$, $BaCl_2(aq)$, $KI(aq)$

සැ.යු. : එක් ද්‍රාවණයක් එක් වරක් පමණක් භාවිත කළ යුතු ය.



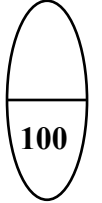
(ii) A සිට F දක්වා ඇති අවක්ෂේපවල රසායනික සූත්‍ර ලියන්න.

A B C
 D E F

(iii) ඉහත (b) (i) හි දැක්වෙන A, D හා E අවක්ෂේප ද්‍රාවණය වීම සඳහා තුලිත රසායනික සමීකරණ ලියන්න.

.....

(ලකුණු 50 යි)

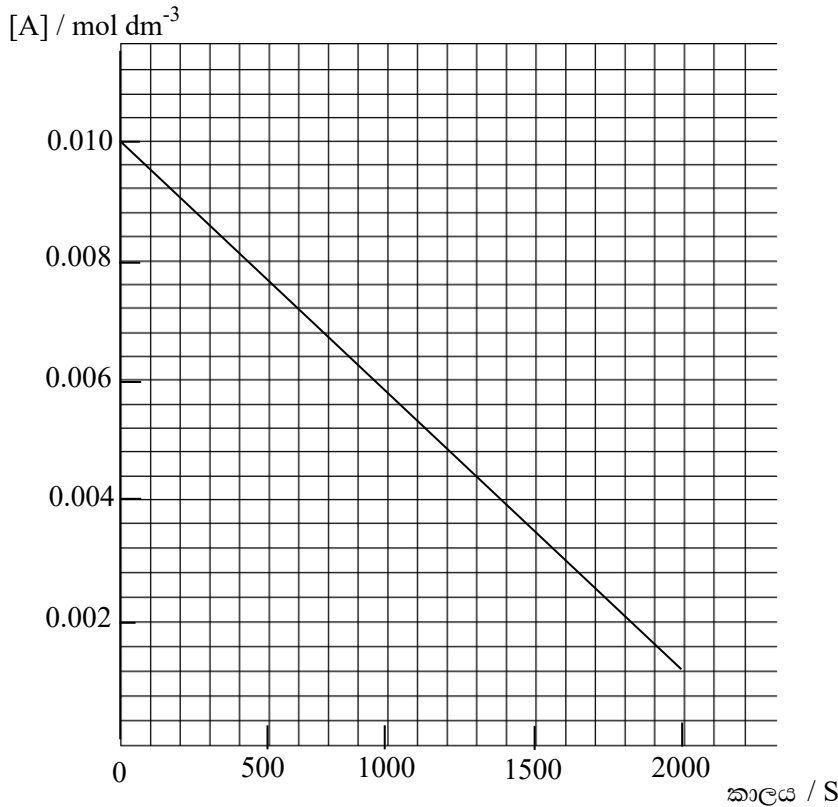


3.

(a) 227°C හි දී, A වායුවෙන් මවුල 0.010 ක් රේඛනය කරන ලද 1.0 dm³ සංචාක දෘඪ භාජනයක් තුළ ඝන උත්ප්‍රේරකයක ස්වල්ප ප්‍රමාණයක් හමුවේ තැබූ විට, එය පහත දැක්වෙන ආකාරයට විභේදනය වේ.



A(g) හි සාන්ද්‍රණය කාලයත් සමග මනින ලදී. ප්‍රතිඵල පහත දැක්වෙන ප්‍රස්තාරයේ පෙන්වා ඇත.



(i) ප්‍රතික්‍රියාවේ පෙළ සහ ශීඝ්‍රතා නියතය පිළිවෙලින් a සහ k ලෙස ගනිමින් ඉහත ප්‍රතික්‍රියාව සඳහා ශීඝ්‍රතා ප්‍රකාශනය ලියන්න.

.....

(ii) හේතු දැක්වමින් a හි අගය නිර්ණය කරන්න.

.....
.....
.....

(iii) 227°C හි දී ශීඝ්‍රතා නියතය, k ගණනය කරන්න.

.....
.....
.....
.....

(iv) ආරම්භයේදී පැවති A(g) හි ප්‍රමාණයෙන් අඩක් වියෝජනය වී ඇති විට භාජනය තුළ පීඩනය ගණනය කරන්න. උත්ප්‍රේරකයෙහි පරිමාව නොසලකා හැරිය හැකි බව උපකල්පනය කරන්න.

.....
.....
.....
.....
.....
.....
.....
.....

(ලකුණු 60 යි)

(b) සහ උත්ප්‍රේරකයක් හමුවේ X වායුව දැක්වෙන රසායනික සමීකරණය අනුව වියෝජනය වේ.



රේඛනය කරන ලද භාජනයක් තුළට X වායුවෙන් මවුල 1.0 ක් ඇතුළත් කරන ලදී. වායුවේ ආරම්භක පරිමාව V₀ ලෙස මැන ඇත. උත්ප්‍රේරකයෙන් කුඩා ප්‍රමාණයක් (පරිමාව නොසලකා හැරිය හැක) ඇතුළත් කිරීමෙන් ප්‍රතික්‍රියාව ආරම්භ කරන ලදී. උත්ප්‍රේරණය කරන ලද ප්‍රතික්‍රියාවේ ශීඝ්‍රතා නියතය k₁ සහ X ට සාපේක්ෂව ප්‍රතික්‍රියාවේ පෙළ b වේ. ප්‍රතික්‍රියාවේ ආරම්භක ශීඝ්‍රතාවය R₀ ලෙස මැන ඇත. භාජනය ප්‍රසාරණය වීමට ඉඩ හැරීමෙන් පද්ධතියේ පීඩනය නියත අගයක පවත්වා ගන්නා ලදී. පද්ධතියේ උෂ්ණත්වය ද නියත අගයක පවත්වා ගන්නා ලදී.

(i) b, k₁ සහ V₀ පද අනුසාරයෙන් R₀ සඳහා ප්‍රකාශනයක් ලියන්න.

.....
.....

(ii) **X(g)** හි 50% ක ප්‍රමාණයක් වැය වූ විට ප්‍රතික්‍රියාව සිදුවන භාජනයේ පරිමාව දෙගුණ වූ බව සහ ප්‍රතික්‍රියාවේ ශීඝ්‍රතාවය $0.25R_0$ වූ බව නිරීක්ෂණය කරන ලදී. ප්‍රතික්‍රියාවේ පෙළ **b** ගණනය කරන්න.

.....

.....

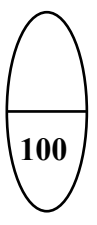
.....

.....

.....

.....

(ලකුණු 40 යි)



4.

(a)

(i) **A, B, C** හා **D** යනු අණුක සූත්‍රය $C_4H_{10}O$ වූ ව්‍යුහ සමාවයවික වේ. සමාවයවික හතර ම ලෝහමය සෝඩියම් හා ප්‍රතික්‍රියා කර H_2 වායුව මුක්ත කරයි. සමාවයවික හතරින් **A** පමණක් සමාවයවිකතාව දක්වයි. **B, C** සහ **D**, $ZnCl_2$ අඩංගු සාන්ද්‍ර HCl වලට වෙන වෙන ම එකතු කළ විට, **B** අඩංගු මිශ්‍රණයෙහි ඉතා ඉක්මනින් ආච්ච්චතාවයක් ඇති විය. **C** සහ **D** හි අච්ච්චතාව ඇති වීම ඉතා සෙමෙන් සිදු විය. **C** සහ **D** සාන්ද්‍ර H_2SO_4 සමග රත් කළ විට, **E** සහ **F** පිළිවෙළින් ලබා දුනි. **E** සහ **F** අණුක සූත්‍රය C_4H_8 වූ ව්‍යුහ සමාවයවික වේ. **E** සහ **F** සංයෝග දෙකෙන් එකක්වත් ජ්‍යාමිතික සමාවයවිකතාව නොපෙන්වයි. **E** සහ **F**, HBr සමග පිරියම් කළ විට **G** සහ **H** පිළිවෙළින් ලබා දුනි. **G** පමණක් ප්‍රකාශ සමාවයවිකතාව පෙන්වයි. **A, B, C, D, E, F, G** සහ **H** හි ව්‍යුහ පහත දී ඇති කොටුවල අඳින්න. (ත්‍රිමාන සමාවයවික ආකාර ඇඳ දැක්වීම අවශ්‍ය නැත.)

A	B	C
D	E	F
G	H	

(ලකුණු 40 යි)

(ii) A සහ C, PCC සමඟ ප්‍රතික්‍රියා කරවූ විට I සහ J පිළිවෙළින් ලබා දුනි. I සහ J වල ව්‍යුහ පහත දී ඇති කොටුවල අඳින්න. (PCC = පිරිසිනියම් ක්ලෝරොක්‍රෝමේට්)




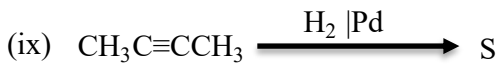
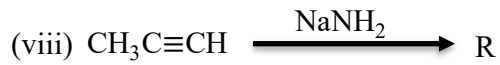
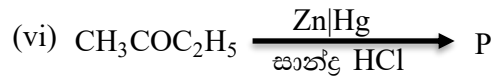
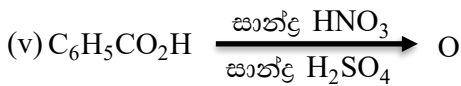
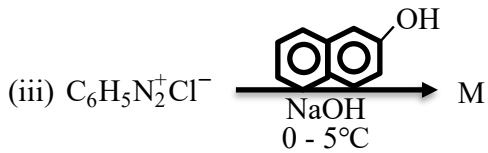
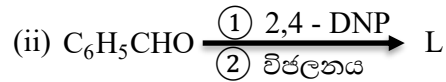
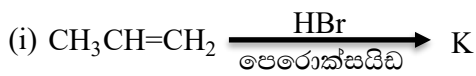
I



J

(ලකුණු 10 යි)

(b) පහත දී ඇති ප්‍රතික්‍රියාවල ප්‍රධාන කාබනික ඵල වන K, L, M, N, O, P, Q, R, S සහ T හි ව්‍යුහ දී ඇති අදාළ කොටුවල අඳින්න.



K



L




M



N



O



P

මෙම තීරයේ
කිසිවක්
නො ලියන්න.



Q



R



S



T

(ලකුණු 40 යි)

(c) $C_2H_5CH=CHC_2H_5$ සහ Br_2 (CCl_4) අතර ප්‍රතික්‍රියාව සඳහා යන්ත්‍රණය ලියන්න.

(ලකුණු 20 යි)



(c) වැඩිපුර C(s) ප්‍රමාණයක් සහ CO₂(g) 0.15 mol ක් සංචාත දෘඪ 2.0 dm³ භාජනයක තබා, උෂ්ණත්වය 689°C හි දී පද්ධතිය සමතුලිතතාවයට එළඹීමට ඉඩ හරින ලදී. සමතුලිතතාවට එළඹුණු විට භාජනය තුළ පීඩනය 8.0 × 10⁵Pa බව සොයා ගන්නා ලදී. (689°C හි දී RT = 8000 J mol⁻¹ ලෙස සලකන්න.)

(i) C(s) + CO₂(g) ⇌ 2CO(g) ප්‍රතික්‍රියාවේ සමතුලිතතා නියතය, K_p සඳහා ප්‍රකාශනයක් ලියන්න.

(ii) 689°C හි දී K_p හා K_c ගණනය කරන්න.

(iii) වෙනත් පරීක්ෂණයක දී ඉහත විස්තර කළ භාජනයක තුළ 689°C හි දී වැඩිපුර C(s) සමග CO(g) සහ CO₂(g) අඩංගු වේ. එක් එක් වායුවෙහි ආරම්භක ආංශික පීඩනය 2.0×10⁵Pa බැගින් වේ. පද්ධති සමතුලිතතාවට එළඹෙන විට CO₂(g) හි ආංශික පීඩනයේ වෙනස්වීම ගණනය කිරීමක් ආධාරයෙන් පැහැදිලි කරන්න.

(ලකුණු 70 යි)

6.

(a) 25°C හි දී පරිමාමිතික ප්ලාස්කුවක් තුළ සංශුද්ධ දුබල අම්ලයකින් සුදුසු ප්‍රමාණයක් 25.00 cm³ දක්වා ආපෑති ජලයෙන් තනුක කිරීමෙන් HA දුබල අම්ලයෙහි 0.10 mol dm⁻³ ද්‍රාවණයක් සාදා ගන්නා ලදී. මෙම ද්‍රාවණයේ pH අගය 3.0 ක් විය.

(i) HA(aq) + H₂O(l) ⇌ H₃O⁺(aq) + A⁻(aq) යන සමීකරණය සලකමින් දුබල අම්ලයේ විසටන නියතය, K_a ගණනය කරන්න.

(ii) මෙම HA දුබල අම්ලයෙහි තනුක ද්‍රාවණයක් BOH ප්‍රභල භස්මයක් සමග අනුමාපනය කරන ලදී. සමකතා ලක්ෂ්‍යය ළගා වූ පසු අනුමාපන මිශ්‍රණයේ pH අගය 9.0 බව සොයා ගන්නා ලදී. අනුමාපන මිශ්‍රණයේ ඇති AB ලවණයෙහි සාන්ද්‍රණය ගණනය කරන්න. (25°C දී K_w=1.0×10⁻¹⁴ mol²dm⁻⁶)

(iii) ඉහත අනුමාපන මිශ්‍රණය ආපෑත ජලය එක් කිරීමෙන් සියවරක් තනුක කරන ලදී. තනුක කරන ලද අනුමාපන මිශ්‍රණයෙහි pH අගය ගණනය කරන්න.

(ලකුණු 50 යි)

(b) AgBr(s) ජලයේ අල්ප වශයෙන් ද්‍රාව්‍ය ලා කහ පැහැති ලවණයකි. 25°C හි දී එහි ද්‍රාව්‍යතා ගුණිතය, K_{sp} 5.0×10⁻¹³ mol² dm⁻⁶ වේ.

(i) 25°C හි දී ඝන AgBr සමග සමතුලිතව පවතින සන්තෘප්ත AgBr ද්‍රාවණයක ඇති Ag⁺(aq) සාන්ද්‍රණය ගණනය කරන්න.

(ii) ඉහත (i) කොටසෙහි විස්තර කර ඇති ද්‍රාවණයෙන් 100 cm³ ඝන AgBr සමග බිකරයක අඩංගු වේ. මෙම බිකරයට ආපෑත ජලය 100.0 cm³ ක් එකතු කර සමතුලිතතාවට එළඹෙන තුරු මිශ්‍රණය හොඳින් කලතන ලදී. මෙම අවස්ථාවේ ඝන AgBr යම් ප්‍රමාණයක් බිකරයේ පතුලේ තවදුරටත් ඉතිරි ව පැවතුණි. මෙම ද්‍රාවණයෙහි Ag⁺(aq) සාන්ද්‍රණය කුමක් විය හැකි ද? ඔබේ පිළිතුර පහදන්න.

(iii) සුදුසු ගණනය කිරීමක් භාවිතයෙන් 25°C හි දී 1.5×10⁻⁴ mol dm⁻³ AgNO₃ ද්‍රාවණයකින් 10.0cm³ සහ 6.0×10⁻⁴ mol dm⁻³ NaBr ද්‍රාවණයකින් 5.0 cm³ මිශ්‍ර කළ විට බලාපොරොත්තු වන නිරීක්ෂණය පුරෝකථනය කරන්න.

(ලකුණු 50 යි)

(c)

(i) පරිපූර්ණ ද්‍රව්‍යයක් ද්‍රාවණයක් සමග සමතුලිතව ඇති වාෂ්ප කලාපයෙහි පීඩනය P වේ. සංසටක දෙකෙහි ද්‍රව කලාපයෙහි මවුල භාග X_1 හා X_2 වන අතර ඒවායේ සන්තෘප්ත වාෂ්ප පීඩන පිළිවෙලින් P_1^0 සහ P_2^0 වේ.

$$X_1 = \frac{P - P_2^0}{P_1^0 - P_2^0} \text{ බව පෙන්වන්න.}$$

(ii) 50°C හි දී මෙතනෝල් සහ එතනෝල් අඩංගු ද්‍රව්‍යයක් සමග සමතුලිතව ඇති වාෂ්ප කලාපයෙහි පීඩනය $4.5 \times 10^4 \text{ Pa}$ වේ. මෙම උෂ්ණත්වයේ දී මෙතනෝල් සහ එතනෝල් හි සන්තෘප්ත වාෂ්ප පීඩන පිළිවෙලින් $5.5 \times 10^4 \text{ Pa}$ සහ $3.0 \times 10^4 \text{ Pa}$ වේ. ද්‍රාවණ පරිපූර්ණ ලෙස හැසිරෙන බව සලකන්න.

I. ද්‍රව කලාපයෙහි මෙතනෝල් සහ එතනෝල්හි මවුල භාග ගණනය කරන්න.

II. වාෂ්ප කලාපයෙහි මෙතනෝල් සහ එතනෝල් හි මවුල භාග ගණනය කරන්න.

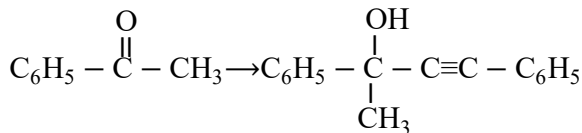
(iii) ඉහත ගණනය කිරීම් සහ දී ඇති තොරතුරු පදනම් කර ගනිමින් 50°C හි දී මෙතනෝල්

– එතනෝල් මිශ්‍රණයෙහි වාෂ්ප පීඩන – සංයුති සටහන ඇඳ දක්වන්න. ද්‍රාවණ පරිපූර්ණ ලෙස හැසිරෙන බව සලකන්න.

(ලකුණු 50 යි)

7.

(a) ලැයිස්තුවේ දී ඇති රසායනික ද්‍රව්‍ය පමණක් භාවිත කර, ඔබ පහත සඳහන් පරිවර්තනය සිදු කරන්නේ කෙසේ දැයි පෙන්වන්න.



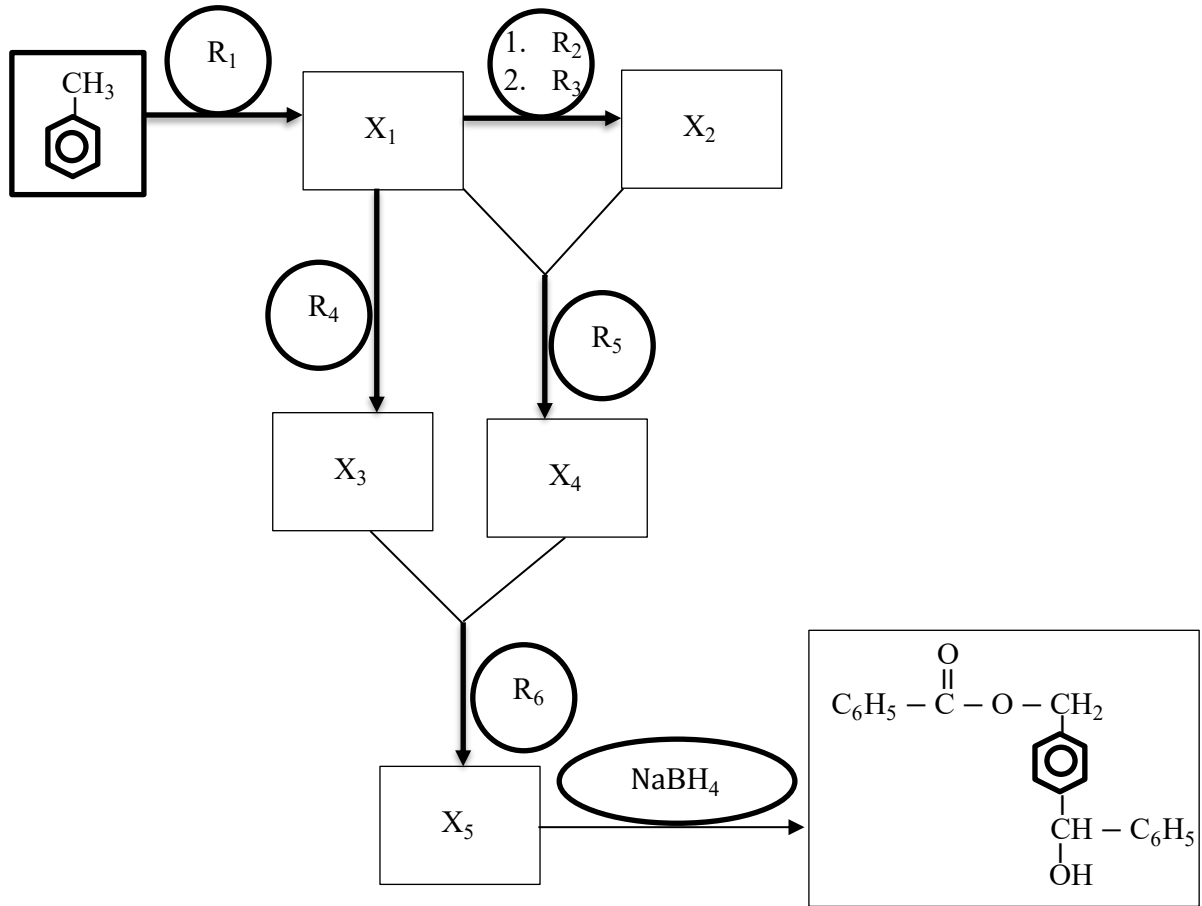
රසායනික ද්‍රව්‍ය ලැයිස්තුව

H_2O , මධ්‍යසාරිය KOH , Br_2 , සාන්ද්‍ර H_2SO_4 , NaBH_4 , $\text{C}_2\text{H}_5\text{MgBr}$ / වියළි ඊතර්

ඔබගේ පරිවර්තනය පියවර 9 කට වැඩි නොවිය යුතු ය.

(ලකුණු 60 යි)

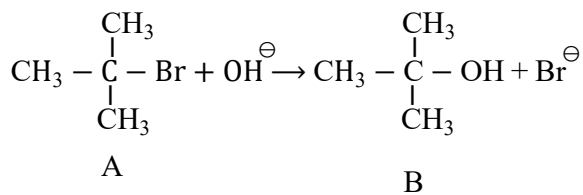
(b) පහත සඳහන් ප්‍රතික්‍රියා දාමය සම්පූර්ණ කිරීම සඳහා R₁ - R₆ සහ X₁ - X₅ හඳුනාගන්න.



(ලකුණු 70 යි)

(c)

(i) පහත සඳහන් ප්‍රතික්‍රියාවේ යන්ත්‍රණය දෙන්න.



(ii) NaOH සමඟ A හි ප්‍රතික්‍රියාවෙන් B ට අමතරව, C නමැති වෙනත් ඵලයක් ලැබේ. C හි ව්‍යුහය දෙන්න.

(ලකුණු 20 යි)

C කොටස - රචනා

ප්‍රශ්න දෙකකට පමණක් පිළිතුරු සපයන්න. (එක් එක් ප්‍රශ්නයට ලකුණු 150 බැගින් ලැබේ.)

8.

(a) A සංයෝගය ($A = MX_n$, $M = 3d$ ගොනුවට අයත් ආන්තරික මූලද්‍රව්‍යයක්, $X =$ එකම වර්ගයකට අයත් ලිගන්) වැඩිපුර තනුක NaOH සහ H_2O_2 සමග පිරියම් කළ විට B සංයෝගය ලබා දේ. B හි ජලීය ද්‍රාවණයක් තනුක H_2SO_4 මගින් ආම්ලිකාක කළ විට C සංයෝගය ලබා දේ. C සංයෝගය NH_4Cl සමග ප්‍රතික්‍රියා කළ විට එක එලයක් ලෙස D සංයෝගය ලබා දේ. D සහය රත් කළ විට නිල්පැහැති E සංයෝගය, ජලවාෂ්ප සහ නිශ්ක්‍රීය ද්විපරමාණුක F වායුව ලබා දේ. Ca ලෝහය F වායුවේ දහනය කළ විට සුදු G සහය ලබා දේ. ජලය සමග G හි ප්‍රතික්‍රියාවෙන් H වායුව නිදහස් කරයි. මෙම වායුව HCl වායුව සමග සුදු දුමාරයක් සාදයි. ද්‍රව H සමග Na ලෝහය ප්‍රතික්‍රියා කර එක් එලයක් ලෙස අවර්ණ ද්විපරමාණුක I වායුව ලබා දේ. A හි ජලීය ද්‍රාවණයක් වැඩිපුර Na_2CO_3 සමග පිරියම් කළ විට වර්ණවත් අවක්ෂේපයක් සෑදේ. මෙම අවක්ෂේපය පෙරා, පෙරනය තනුක HNO_3 වලින් ආම්ලිකාක කරනු ලැබේ. මෙම ද්‍රාවණයට $AgNO_3(aq)$ එකතු කළ විට තනුක NH_4OH වල ද්‍රාව්‍ය වන සුදු අවක්ෂේපයක් ලබා දේ.

- (i) A, B, C, D, E, F, G, H සහ I හඳුනාගන්න.
- (ii) C අඩංගු ද්‍රාවණයක් තනුක NaOH වලින් පිරියම් කළ විට ඔබට කුමක් නිරීක්ෂණය කළ හැකි වේ ද? මෙම නිරීක්ෂණයට අදාළ තුලිත රසායනික සමීකරණය දෙන්න.

(ලකුණු 50 යි)

(b) T නම් ජලීය ද්‍රාවණයක ලෝහ අයන තුනක් අඩංගු වේ. මෙම ලෝහ අයන හඳුනාගැනීම සඳහා පහත සඳහන් පරීක්ෂණ සිදු කරන ලදී.

පරීක්ෂණය	නිරීක්ෂණය
1. තනුක HCl මගින් T ආම්ලිකාක කර ලැබුණු පැහැදිලි ද්‍රාවණය තුළින් H_2S බුබුලනය කරන ලදී.	Q_1 කළු පැහැති අවක්ෂේපයක් සෑදුණි.
2. Q_1 පෙරා ඉවත් කරන ලදී. H_2S සියල්ල ම ඉවත් වන තුරු පෙරනය නටවන ලදී. ද්‍රාවණය සිසිල් කර, NH_4Cl හා NH_4OH එකතු කරන ලදී. ද්‍රාවණය තුළින් H_2S බුබුලනය කරන ලදී.	පැහැදිලි ද්‍රාවණයක් ලැබුණි. Q_2 කළු පැහැති අවක්ෂේපයක් සෑදුණි.
3. Q_2 පෙරා ඉවත් කරන ලදී. H_2S සියල්ලම ඉවත් වන තුරු පෙරනය නටවා, $(NH_4)_2CO_3$ ද්‍රාවණයක් එකතු කරන ලදී.	Q_3 සුදු පැහැති අවක්ෂේපයක් සෑදුණි.

Q₁, Q₂ හා Q₃ අවකේෂප සඳහා පරීක්ෂණ :

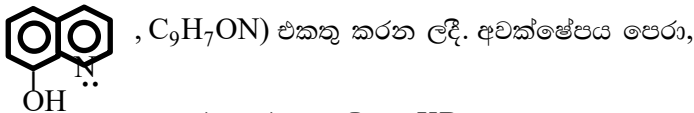
පරීක්ෂණය	නිරීක්ෂණය
1. උණුසුම් තනුක HNO ₃ හි Q ₁ ද්‍රාවණය කරන ලදී. සිසිල් කිරීමෙන් පසු, ද්‍රාවණය උදාසීන කර KI එක් කරන ලදී .	අවකේෂපයක් හා දුඹුරු පැහැති ද්‍රාවණයක් සෑදුණි.
2. උණුසුම් තනුක HCl හි Q ₂ ද්‍රාවණය කරන ලදී. ද්‍රාවණය සිසිල් කර, තනුක NH ₄ OH එක් කරන ලදී. මෙම මිශ්‍රණයට තවදුරටත් තනුක NH ₄ OH එක් කරන ලදී.	කොළ පැහැති අවකේෂපයක් සෑදුණි. කොළ පැහැති අවකේෂපය ද්‍රාවණය වී තද නිල් පැහැති ද්‍රාවණයක් සෑදුණි.
3. සාන්ද්‍ර HCl හි Q ₃ ද්‍රාවණය කර ද්‍රාවණය පහත්සිළු පරීක්ෂාවට ලක් කරන ලදී .	කොළ පැහැති දැල්ලක් ලැබුණි.

(i) T ද්‍රාවණයේ ඇති ලෝහ අයන තුන හඳුනාගන්න. (හේතු අවශ්‍ය නැත)

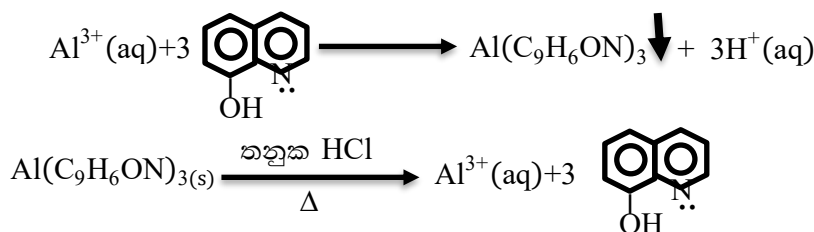
(ii) Q₁, Q₂ හා Q₃ අවකේෂපවල රසායනික සූත්‍ර ලියන්න.

(ලකුණු 50 යි)

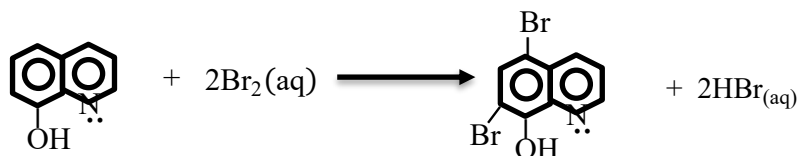
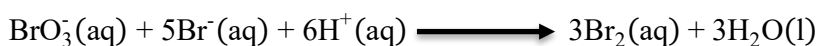
(c) U ද්‍රාවණයේ අඩංගු Al³⁺ අයනවල සාන්ද්‍රණය නිර්ණය කිරීම සඳහා පහත දැක්වෙන ක්‍රියාපිළිවෙළ යොදා ගන්නා ලදී. Al³⁺ අයන pH = 5 හි දී ඇලුමිනියම් ඔක්සිනේට්, Al(C₉H₆ON)₃ ලෙස අවකේෂප කිරීම සඳහා U ද්‍රාවණයෙන් 25.0 cm³ කට වැඩිපුර 8-හයිඩ්‍රොක්සික්විනොලීන් (ඔක්සිජන් ලෙස සාමාන්‍යයෙන් හැඳින්වේ.



ආසුරු ජලයෙන් සෝදා, වැඩිපුර KBr අඩංගු උණුසුම් තනුක HCl වල ද්‍රාවණය කරන ලදී. ඉන්පසු, මෙම ද්‍රාවණයට 0.025 mol dm⁻³ KBrO₃ 25.0 cm³ එකතු කරන ලදී. ඉහත දැක්වෙන ක්‍රියාපිළිවෙළ තුළ සිදු වන ප්‍රතික්‍රියා පහත දැක්වේ.



ආම්ලික මාධ්‍යයක දී Br₂ ජනනය කිරීම සඳහා KBrO₃ ප්‍රාථමික සම්මතයක් ලෙස යොදා ගනු ලැබේ.



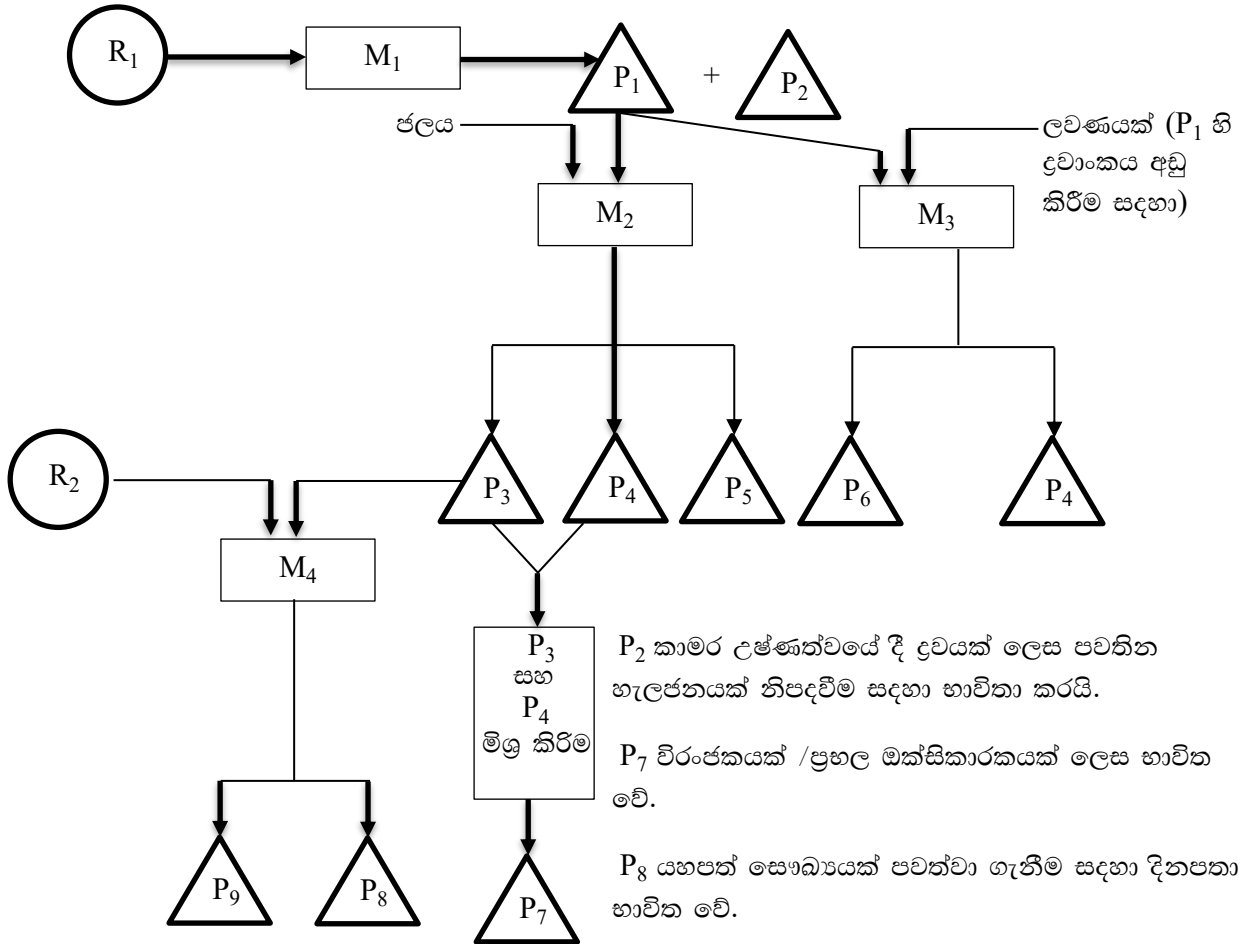
වැඩිපුර Br₂, KI සමග ප්‍රතික්‍රියා කිරීමෙන් I₃⁻ ලබා දේ. ඉන්පසු I₃⁻, 0.05 mol dm⁻³ Na₂S₂O₃ සමග පිෂ්ටය දර්ශකය වශයෙන් යොදා ගනිමින් අනුමාපනය කරන ලදී. අන්ත ලක්ෂ්‍යයට ළගාවීමට අවශ්‍ය වූ Na₂S₂O₃ පරිමාව 15.00 cm³ වේ. U ද්‍රාවණයේ ඇති Al³⁺ හි සාන්ද්‍රණය mg dm⁻³ වලින් ගණනය කරන්න. (Al = 27)

(ලකුණු 50 යි)

9.

(a) අනාගතයේ දී ශ්‍රී ලංකාවේ රසායනික කර්මාන්තයක් ස්ථාපිත කිරීමට අවසන් වසරේ විශ්වවිද්‍යාල ශිෂ්‍යයෙකු විසින් අදින ලද ගැලීම් සටහන පහත දැක්වේ.

ස්වභාවික අමුද්‍රව්‍යයන්, නිෂ්පාදන ක්‍රියාවලි සහ ඵල නිරූපණය කිරීමට පහත දැක්වෙන සංකේත භාවිත කෙරේ.



- (i) R_1 සහ R_2 ස්වභාවික අමුද්‍රව්‍යයන් දෙක හඳුනාගන්න.
- (ii) M_1, M_2, M_3, M_4 නිෂ්පාදන ක්‍රියාවලිය හතර හඳුනාගන්න. [ලදා : ඇමෝනියා නිෂ්පාදනය හෝ හේබර් ක්‍රමය]
- (iii) P_1 සිට P_9 දක්වා ඵල හඳුනාගන්න.
- (iv) M_1 සිට M_3 ක්‍රියාවලියන්හි පියවර කෙටියෙන් විස්තර කරන්න. (උපකරණවල රූපසටහන් අවශ්‍ය නොවේ)
- (v) M_2 ක්‍රියාවලියේ දී භාවිත කරන උපකරණය ඇඳ නම් කරන්න.
- (vi) M_3 ක්‍රියාවලියේ දී භාවිත වන ලවණය හඳුනාගන්න.
- (vii) P_5, P_6 සහ P_9 හි එක් ප්‍රයෝජනයක් බැගින් දෙන්න.

(ලකුණු 75 යි)

(b) පහත දී ඇති ලැයිස්තුව භාවිතයෙන් මෙම ප්‍රශ්නවලට පිළිතුරු සපයන්න.

CO₂, CH₄, වාෂ්පශීලී හයිඩ්‍රොකාබන NO, NO₂, N₂O, NO₃, SO₂, H₂S, CFC, CaCO₃, ද්‍රව පෙට්ට්‍රෝලියම් සහ ගල්අඟුරු

- (i) අම්ල වැසි ඇතිවීමට හේතුවන වායුමය විශේෂ දෙකක් හඳුනාගෙන මෙම විශේෂ මගින් අම්ල වැසි ඇතිවන ආකාරය තුලින් රසායනික සමීකරණ අනුසාරයෙන් කෙටියෙන් පහදා දෙන්න.
- (ii) අම්ල වැසි පරිසරය කෙරෙහි අහිතකර බලපෑම් ඇති කරයි. මෙම ප්‍රකාශය කෙටියෙන් සාකච්ඡා කරන්න.
- (iii) ෆොසිල ඉන්ධන දහනය හේතුවෙන් පරිසරයට එකතුවන විශේෂ තුනක් ඒ එකිනෙකක් මගින් ඇති කරන එක් පාරිසරික ගැටලුවක් සමග හඳුනාගන්න.
- (iv) “කාර්මික සංශ්ලේෂිත ද්‍රව්‍ය ඉතා කුඩා ප්‍රමාණවලින් වායුගෝලයේ පැවතීම අහිතකර පාරිසරික ගැටලුවලට හේතු වේ.” උදාහරණයක් ලෙස CFC යොදා ගෙන මෙම ප්‍රකාශය පහදා දෙන්න.
- (v) හරිතාගාර වායු පහක් හඳුනාගෙන ඒ එක් එක් වායුව, වායුගෝලයට එක්වන මිනිස් ක්‍රියාකාරකමක් බැගින් සඳහන් කරන්න.
- (vi) ෆොසිල ඉන්ධන දහනයේ දී පිටවන ආම්ලික වායුන් ඉවත් කිරීමට ස්වභාවික ද්‍රව්‍යයක් [ලැයිස්තුවෙන් තෝරාගන්න] යොදා ගත හැකි ආකාරය තුලින් රසායනික සමීකරණ භාවිතයෙන් කෙටියෙන් පහදා දෙන්න.

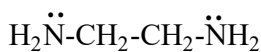
(ලකුණු 75 යි)

10.

(a) X, Y හා Z සංගත සංයෝග වේ. ඒවාට අෂ්ටකලීය ජ්‍යාමිතියක් ඇත. X, Y හා Z හි සංගත ගෝලයේ ඇති විශේෂයන්හි (එනම් ලෝහ අයනය සහ එයට සංගත වී ඇති ලිගන්) පරමාණුක සංයුතිය පිළිවෙලින් FeH₁₀ CNO₅S, FeH₈ C₂N₂O₄ S₂ හා FeH₆ C₃N₃O₃ S₃ වේ. සංයෝග තුනෙහිම ලෝහ අයනයේ ඔක්සිකරණ අවස්ථාව එකම වේ. එක් එක් සංයෝගයෙහි ලිගන් වර්ග දෙකක් ලෝහ අයනයට සංගත වී ඇත. මෙම සංයෝගවල සංගත නොවූ ඇනායන ඇත්නම් ඒවා එකම වර්ගයේ වේ.

S ජලීය ද්‍රාවණයක මවුල අනුපාත 1 : 1 : 1 වන පරිදි X, Y හා Z අඩංගු වේ. S ද්‍රාවණයෙහි එක් එක් සංයෝගයේ සාන්ද්‍රණය 0.10 mol dm⁻³ වේ. S හි 100.0 cm³ ට වැඩිපුර AgNO₃ ද්‍රාවණයක් එක් කළ විට කහ පැහැති අවක්ෂේපයක් සෑදුණි. අවක්ෂේපය ජලයෙන් සෝදා, ස්කන්ධයේ වෙනසක් නොවන තුරු උදුනක වියළන ලදී. අවක්ෂේපයේ ස්කන්ධය 7.05g විය. මෙම අවක්ෂේපය සාන්ද්‍ර NH₄OH හි ද්‍රාවණය නොවේ. (කහ පැහැති අවක්ෂේපයේ අඩංගු රසායනික සංයෝගයෙහි සාපේක්ෂ අණුක ස්කන්ධය = 235)

- (i) X, Y හා Z හි ලෝහ අයනවලට සංගත වී ඇති ලිගන් හඳුනාගන්න.
- (ii) කහ පැහැති අවක්ෂේපයේ රසායනික සූත්‍රය ලියන්න.
- (iii) X, Y හා Z හි ව්‍යුහ, හේතු දක්වමින් නිර්ණය කරන්න.
- (iv) එනිලීන්ඩයිඇමීන් (en) හි ව්‍යුහය පහත දී ඇත.



එනිලීන්ඩයිඇමීන් එහි නයිට්‍රජන් පරමාණු දෙක මගින් M³⁺ ලෝහ අයනයට සංගත වී Q සංකීර්ණ අයනය (එනම් ලෝහ අයනය සහ එයට සංගත වී ඇති ලිගන්) සාදයි. Q ට අෂ්ටකලීය ජ්‍යාමිතියක් ඇත. Q හි ව්‍යුහ සූත්‍රය ලියා එහි ව්‍යුහය අඳින්න.

සැ.යු. : ලෝහ අයනයට එතිලීන්ඩයිඇමීන් පමණක් සංගත වී ඇතැයි සලකන්න. ඔබගේ ව්‍යුහ සූත්‍රයේ එතිලීන්ඩයිඇමීන් ‘en’ යන කෙටි හැඳින්වීමෙන් පෙන්වුම් කරන්න.

(ලකුණු 75 යි)

(b) පහත දැක්වෙන දෑ ඔබට සපයා ඇත.

- $\text{Al}(\text{NO}_3)_3$, $\text{Cu}(\text{NO}_3)_2$ සහ $\text{Fe}(\text{NO}_3)_2$ වල 1.0 mol dm^{-3} ජලීය ද්‍රාවණ
- Al, Cu සහ Fe ලෝහ කුරු
- ලවණ සේතුවල භාවිත කිරීමට අවශ්‍ය රසායනික ද්‍රව්‍ය
- සන්නායක රැහැන් (conducting wires) සහ බිකර

මීට අමතරව පහත දැක්වෙන දත්ත ද සපයා ඇත.

$$E_{\text{Fe}^{2+}/\text{Fe}}^\circ = -0.44\text{V}, \quad E_{\text{Al}^{3+}/\text{Al}}^\circ = -1.66\text{V}, \quad E_{\text{Cu}^{2+}/\text{Cu}}^\circ = +0.34\text{V}$$

- (i) ඉහත සඳහන් ද්‍රව්‍ය උපයෝගී කර ගනිමින් ගොඩ නැගිය හැකි විද්‍යුත් රසායනික කෝෂ තුන රූපීයගත කරන්න. එක් එක් කෝෂයෙහි ඇනෝඩය සහ කැතෝඩය ඒවායේ ලකුණු සමඟ දක්වන්න.
- (ii) ඉහත (i) කොටසෙහි අදින ලද එක් එක් විද්‍යුත් රසායනික කෝෂයේ,
 - I. කෝෂ අංකනය දෙන්න.
 - II. E_{cell}° නිර්ණය කරන්න.
 - III. භෞතික තත්ත්ව දක්වමින් ඉලෙක්ට්‍රෝඩ ප්‍රතික්‍රියා සඳහා තුලිත රසායනික සමීකරණ දෙන්න.
- (iii) පහත දැක්වෙන කුමන සංයෝගය ලවණ සේතුවල භාවිතයට සුදුසුදැයි හේතු දක්වමින් පහදා දෙන්න.

NaOH, NaNO₃, ඇසිටික් අම්ලය

- (iv) ආරම්භයේ දී වැඩිම E_{cell}° පෙන්වුම් කරන විද්‍යුත් රසායනික කෝෂය සලකන්න. මෙම විද්‍යුත් රසායනික කෝෂය සකස් කර ඇත්තේ එහි එක් එක් කුටීරයට අදාළ ද්‍රාවණවල පරිමාවන් සමාන වන ලෙස බවත් ඒවායේ පරිමාවන් පරීක්ෂණය සිදු කරන කාලය තුළ දී නොවෙනස් වන බවත් උපකල්පනය කරන්න.

මෙම කෝෂයෙහි ඉලෙක්ට්‍රෝඩ දෙක සන්නායක රැහැනකින් සම්බන්ධ කර යම් කාලයකට පසු ඇනෝඩ කුටීරය තුළ ඇති ලෝහ අයන සාන්ද්‍රණය $C \text{ mol dm}^{-3}$ බව සොයා ගන්නා ලදී. කැතෝඩ කුටීරය තුළ ඇති ලෝහ අයන සාන්ද්‍රණය C ඇසුරින් ප්‍රකාශ කරන්න.

(ලකුණු 75 යි)

